




1 Aşağıdaki görsellerden hangisinin şekli Dünya'nın şekline benzer?

- A)  B)  C) 

2 "Dünya'nın Güneş etrafında döndüğünü ve yuvarlak olduğunu ileri süren ilk kişidir."

Yukarıda bahsedilen bilim insanı aşağıdakilerden hangisidir?

- A) Galileo B) Macellan
C) Pisagor

3 Hep aynı yönde uçmaya devam eden uçak, uçmaya başladığı noktaya bir daha gelmeseydi Dünya'nın şekliyle ilgili aşağıdakilerden hangisini söyleyebilirdik?

- A) Dünya'mız küre şeklindedir.
B) Dünya'mız yuvarlaktır.
C) Dünya'mız düz olabilir.

4 Aşağıdaki bilim insanlarından hangisi Dünya'nın şekli ile ilgili araştırma yapmamıştır?

- A) Galileo
B) Biruni
C) Mimar Sinan

5 Hep aynı yöne giderek Dünya'nın çevresini dolaşan ilk denizci hangisidir?

- A) Macellan
B) Pisagor
C) Biruni

6 Dünya'nın şekli küreye benzer ama tam küre değildir.

Buna göre aşağıdakilerden hangisi, Dünya'nın şeklini tam olarak tanımlar?

- A) Alttan şişkin, yanlardan basık, üstten tümsek
B) Alttan ve üstten şişkin, yanlardan basık
C) Yanlardan basık, alttan ve üstten şişkin

7 Aşağıdakilerden hangisi Dünya'nın yuvarlak bir şekli olduğunu kanıtlamaz?

- A) Bir uçağın, sürekli aynı yöne giderse kalkış yaptığı noktaya geri dönmesi
B) Dünya'da çok büyük dağlar ve denizlerin bulunması
C) Gemilerin limandan uzaklaştıkça denizde görünmemesi