




1 Önder, aşağıdaki kutucuklara kendisiyle ilgili cümleler yazdı.

Çok güzel şarkı söylerim	Bisiklet sürmeyi beceremiyorum.
Yazım çok güzel değil.	Evdeki işlere yardımcı olmayı çok seviyorum.




Önder, güçlendirmesi gereken yanlarının yazılı olduğu kutucukları boyadığında tablonun görünümü nasıl olur?

- A)  B) 
- C) 

2 Ahmet, derslerinde başarılı ve arkadaşlık ilişkilerine önem veren bir öğrencidir. Toplama ve çıkarma işlemlerini sınıfta en hızlı yapan öğrencidir. Aynı zamanda geçen ay okulda yapılan resim yarışmasında birinci olmuştur.

Buna göre Ahmet'in aşağıdaki derslerin hangilerinde daha başarılı olduğunu söyleyebiliriz?

- A) Matematik - Türkçe  
B) Matematik - Görsel Sanatlar  
C) Türkçe - Görsel Sanatlar

- 3  Kavgacı olmamız  
 Kararlı olmamız  
 Yardımsever olmamız

Yukarıdakilerden hangileri güçlü yönlerimizdendir?

- A)  ve   
B)  ve   
C)  ve 

4 Aşağıdakilerden hangisi bir öğrencinin güçlü yönü olabilir?

- A) Topluluk önünde konuşamaması  
B) Çabuk sinirlenmesi  
C) İyi futbol oynaması

5 Aşağıdaki ifadelerden hangisi yanlıştır?

- A) Güçlü yanlarımızı bilirsek öz güvenimiz artar.  
B) Herkesin güçlü ve zayıf yönleri aynıdır.  
C) Güçlendirmemiz gereken yönlerimizi kabul etmeli ve geliştirmeye çalışmalıyız.