











1. Aşağıda bazı semboller rakamlarla ilişkilendirilmiştir. Buna göre verilen sayıları ve bu sayıların okunuşlarını yazalım.

 : 9	 : 3	 : 6	 : 4	 : 0
 : 1	 : 5	 : 8	 : 2	 : 7

Sayı

Okunuşu



.....

.....



.....

.....



.....

.....



.....

.....



.....

.....

2. Rakamları kullanarak yazılabilecek üç basamaklı sayıları yazalım.

7 1 5 :

6 3 0 :

1 9 3 :

8 0 4 :

2 9 7 :