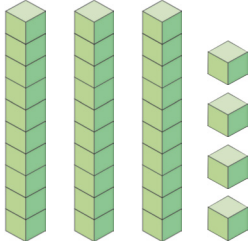


7



Yukarıda taban blokları ile gösterilen sayının okunuşu aşağıdakilerden hangisidir?

- A. Otuz dört B. Kırk üç
C. Kırk dört

8




Dedemin yaşı
6 onluk ve 9 bir-
likten oluşur.

Cenk'in verdiği bilgilere göre dedesi kaç yaşındadır?

- A. 96 B. 69 C. 99


9



Raftaki arabaların sayısı 1 düzine-
den kaç tane azdır?

- A. 5 B. 6 C. 7

10



Yukarıdaki elmaların sayısı 2 düzine-
den kaç tane fazladır?

- A. 6 B. 8 C. 10

11





Aynı türden 10 tane
varlığın sayısına denir.





Aynı türden 12 tane
varlığın sayısına denir.

Yukarıdaki çocukların ifade ettiği kav-
ramlar hangi seçenekte doğru veril-
miştir?



- A.

	deste
	düzine

 B.

	düzine
	deste

- C.

	demet
	bütün