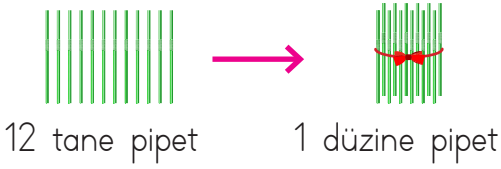


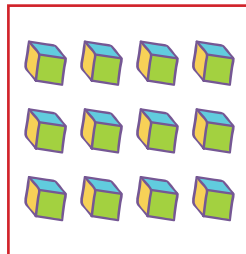





Aynı cinsten 10 tane nesnenin oluşturduğu topluluğa **deste** denir.
Aynı cinsten 12 tane nesnenin oluşturduğu topluluğa **düzine** denir.



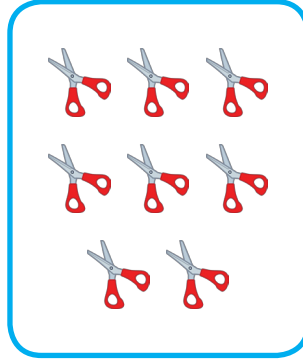



1. Aşağıdaki nesnelere 1 deste olanların altına "Deste", 1 düzine olanların altına "Düzine" yazalım.

ilkokul.com



2. Aşağıdaki çokluk sayılarının desteye ya da düzineye eşit olmasını istiyoruz. Buna göre aynı türden kaç tane varlık eklenmesi gerektiğini yazalım.



3. Aşağıda verilen ifadeler doğru ise başındaki kutucuğa "✓", yanlış ise "✗" yapalım.

Aynı türden 10 tane varlığın oluşturduğu topluluğa düzine denir.

Aynı türden 12 tane varlığın oluşturduğu topluluğa deste denir.

Deste sayısı, düzine sayısından 2 eksiktir.

İki elimizdeki parmakların sayısı 1 deste kadardır.

2 düzine sayısı, 2 deste sayısından 4 eksiktir.

4. Aşağıdaki noktalı alanları örnekteki gibi uygun ifadelerle tamamlayınız.

1 3 elma +7 elma..... = 1 deste

2 9 kalem + = 1 düzine

3 1 çiçek + = 1 deste

4 14 makas + = 2 deste

5 4 silgi + = 1 düzine

6 6 defter + = 1 düzine

7 11 kaşık + = 2 deste

8 11 yaprak + = 1 düzine

9 7 cetvel + = 1 deste

4. Aşağıdaki problemleri çözelim.

1. Ali'nin 1 düzine kalem vardı. 5 tanesini kardeşine verdi. Ali'nin kaç kalem kaldı?

2. Sepetteki 2 düzine elmanın 13 tanesini yedik. Geriye kaç tane elma-mız kaldı?

3. Ağacın dalındaki 13 tane kuşun yanına 1 deste kuş daha konarsa ağacın dalında kaç kuş olur?

4. 2 deste topun 5 tanesini patlarsa geriye kaç tane balon kalır?




1 Bir baloncunun elinde 2 düzine balon vardır.

Baloncu, elindeki balonların 6 tanesini satarsa geriye kaç balonu kalır?

- A. 14 B. 16 C. 18

2



Yukarıdaki arı sayısı ile ilgili ifadelerden hangisi doğrudur?


- A. 1 düzineden 4 fazladır.
B. 1 desteden 6 fazladır.
C. 2 desteden 6 eksiktir.

3 Annemin yaptığı kurabiye sayısı 1 düzineden 5 fazladır.

Bunda göre annem kaç tane kurabiye yapmıştır?

- A. 15 B. 16 C. 17

4



Yukarıdaki havuçlardan kaç tanesi çıkarılırsa geriye 1 deste havuç kalır?

- A. 6 B. 5 C. 4

5



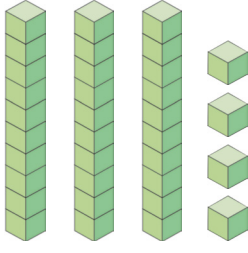
Yukarıda rakamlarla yazılmış olan sayıları, okunuşları ile eşleştirirsek hangi sayı dışarıda kalır?

- A.  B.  C. 

6 79 sayısının onluk ve birliklerine ayrılışı, hangi seçenekte doğru olarak verilmiştir?

- A. 7 onluk, 9 birlik
B. 7 onluk, 7 birlik
C. 9 onluk, 7 birlik

7



Yukarıda taban blokları ile gösterilen sayının okunuşu aşağıdakilerden hangisidir?

- A. Otuz dört B. Kırk üç
C. Kırk dört

8




Dedemin yaşı
6 onluk ve 9 bir-
likten oluşur.

Cenk'in verdiği bilgilere göre dedesi kaç yaşındadır?

- A. 96 B. 69 C. 99


9



Raftaki arabaların sayısı 1 düzine-
den kaç tane azdır?

- A. 5 B. 6 C. 7

10



Yukarıdaki elmaların sayısı 2 düzine-
den kaç tane fazladır?

- A. 6 B. 8 C. 10

11





Aynı türden 10 tane
varlığın sayısına denir.





Aynı türden 12 tane
varlığın sayısına denir.

Yukarıdaki çocukların ifade ettiği kav-
ramlar hangi seçenekte doğru veril-
miştir?



- A.

	deste
	düzine

 B.

	düzine
	deste

- C.

	demet
	bütün