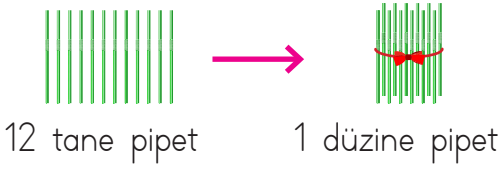


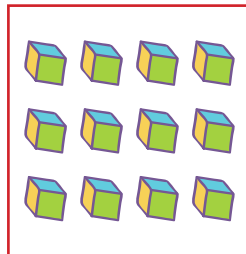





Aynı cinsten 10 tane nesnenin oluşturduğu topluluğa **deste** denir.
Aynı cinsten 12 tane nesnenin oluşturduğu topluluğa **düzine** denir.



1. Aşağıdaki nesnelere 1 deste olanların altına "Deste", 1 düzine olanların altına "Düzine" yazalım.

ilkokul.com



2. Aşağıdaki çokluk sayılarının desteye ya da düzineye eşit olmasını istiyoruz. Buna göre aynı türden kaç tane varlık eklenmesi gerektiğini yazalım.

