






1. Ařaęıda basamakları verilmiř sayıları rnekteki gibi yazınız.



Onlar basamaęı: 3   39

Birler basamaęı: 9



Birler basamaęı: 0  



Onlar basamaęı: 4  

Onlar basamaęı: 6  



Birler basamaęı: 8  



Birler basamaęı: 1  



Onlar basamaęı: 3  

Onlar basamaęı: 4  

Birler basamaęı: 2  



Birler basamaęı: 5  

Onlar basamaęı: 2  

Onlar basamaęı: 5  

Birler basamaęı: 2  

Birler basamaęı: 5  

Onlar basamaęı: 7  

2. Ařaęıda verilen tablolardaki verilmeyen yerleri tamamlayalım.

	Onluk	Birlik
	6	1
Sayı		
Basamak Adları		
Basamak Deęeri		

	Onluk	Birlik
Sayı	43	
Basamak Adları		
Basamak Deęeri		

	Onluk	Birlik
Sayı		
Basamak Adları		
Basamak Deęeri	70	8

	Onluk	Birlik
	1	9
Sayı		
Basamak Adları		
Basamak Deęeri		

