




1. Yukarıdaki görselde verilen sayılarla ilgili aşağıdaki soruları yanıtlayalım.

Birler basamağında 3 rakamı yer alan kaç tane sayı vardır?

Onlar basamağında 4 rakamı yer alan kaç tane sayı vardır?

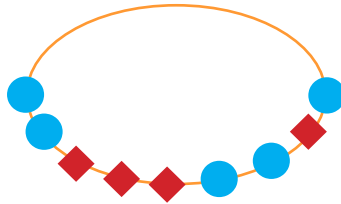
Birler basamağında 9 olan en büyük sayı kaçtır?

2. Aşağıdaki kolyelerde  şeklindeki boncuklar onlukları,  şeklindeki boncuklar ise birlikleri ifade etmektedir.




Sayı: .....

Okunuşu: .....  
.....



Sayı: .....

Okunuşu: .....  
.....



Sayı: .....

Okunuşu: .....  
.....