



Bir grupta bulunan nesnelerin sayılarını tahmin ederken, sayısını daha önceden bildiğimiz bir gruba göre tahminde bulunabiliriz.



1. Yukarıdaki şemsiyelerin sayısını tahmin edelim, tahminimizi yandaki kutuya yazalım.




2. Yukarıdaki şemsiyeleri sayalım. Şemsiyelerin sayısını yandaki kutuya yazalım.



3. Yukarıdaki şemsiyelerin sayısı 2 desteden kaç tane fazladır?





1. Yandaki şapkaların sayısını tahmin edelim, tahminimizi yandaki kutuya yazalım.



2. Yandaki şapkaların sayalım. Şapkaların sayısını yandaki kutuya yazalım.



3. Yandaki şapkaların sayısı 1 düzineden kaç tane eksiktir?





1. Yandaki arıların sayısını tahmin edelim, tahminimizi yandaki kutuya yazalım.




2. Yandaki arıları sayalım. Arıların sayısını yandaki kutuya yazalım.



3. Yandaki arıların sayısı 2 düzineden kaç tane eksiktir?






1. Ağaçtaki elmaların sayısını önce tahmin edelim. Ardından elmaları sayıp gerçek sayısını yazalım.

Tahmin

Gerçek Sonuç



2. Akvaryumdaki balıkların sayısını önce tahmin edelim. Ardından balıkları sayıp gerçek sayısını yazalım.

Tahmin

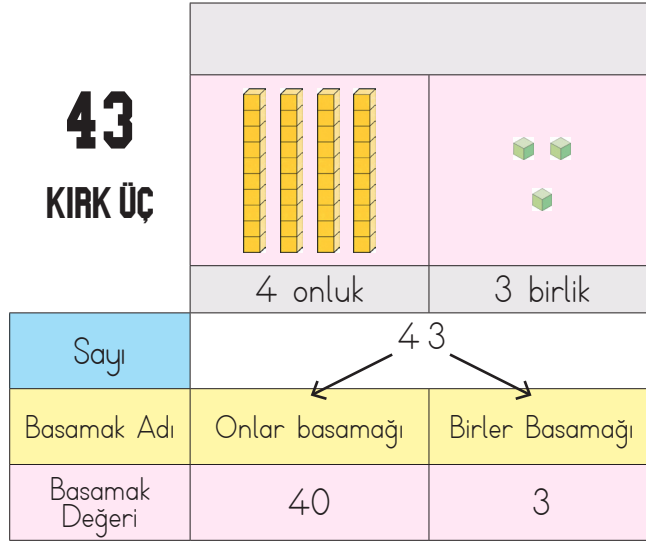
Gerçek Sonuç



3. Kelebeklerin sayısını önce tahmin edelim. Ardından kelebekleri sayıp gerçek sayısını yazalım.

Tahmin

Gerçek Sonuç



Bir doğal sayının rakamlarının sayının içinde bulunduğu basamağın deęerine denir. 43 sayısında 4'ün basamak deęeri 40, 3'ün basamak deęeri ise 3'tür.

1. Aşağıdaki sayıların okunuşlarını ve basamak isimlerini yazalım.

<p>24:</p> <p>↳basamağı</p> <p>↳basamağı</p>	<p>43:</p> <p>↳basamağı</p> <p>↳basamağı</p>
<p>64:</p> <p>↳basamağı</p> <p>↳basamağı</p>	<p>78:</p> <p>↳basamağı</p> <p>↳basamağı</p>
<p>83:</p> <p>↳basamağı</p> <p>↳basamağı</p>	<p>94:</p> <p>↳basamağı</p> <p>↳basamağı</p>

1. Ařaęıda basamakları verilmiř sayıları rnekteki gibi yazınız.

Onlar basamaęı: 3 \rightarrow \rightarrow 39

Birler basamaęı: 9 \rightarrow \rightarrow

Birler basamaęı: 0 \rightarrow \rightarrow

Onlar basamaęı: 4 \rightarrow \rightarrow

Onlar basamaęı: 6 \rightarrow \rightarrow

Birler basamaęı: 8 \rightarrow \rightarrow

Birler basamaęı: 1 \rightarrow \rightarrow

Onlar basamaęı: 3 \rightarrow \rightarrow

Onlar basamaęı: 4 \rightarrow \rightarrow

Birler basamaęı: 2 \rightarrow \rightarrow

Birler basamaęı: 5 \rightarrow \rightarrow

Onlar basamaęı: 2 \rightarrow \rightarrow

Onlar basamaęı: 5 \rightarrow \rightarrow

Birler basamaęı: 2 \rightarrow \rightarrow

Birler basamaęı: 5 \rightarrow \rightarrow

Onlar basamaęı: 7 \rightarrow \rightarrow

2. Ařaęıda verilen tablolardaki verilmeyen yerleri tamamlayalım.

	Onluk	Birlik
	6	1
Sayı		
Basamak Adları		
Basamak Deęeri		

	Onluk	Birlik
Sayı	43	
Basamak Adları		
Basamak Deęeri		

	Onluk	Birlik
Sayı		
Basamak Adları		
Basamak Deęeri	70	8

	Onluk	Birlik
	1	9
Sayı		
Basamak Adları		
Basamak Deęeri		

1. Robotların üzerinde yazan sayılara göre soruları yanıtlayalım.



Birler bas. rakam →

Onlar bas. rakam →

Birler bas. rakamın basamak deęeri →

Onlar bas. rakamın basamak deęeri →



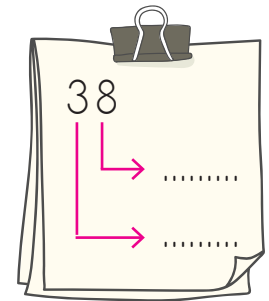
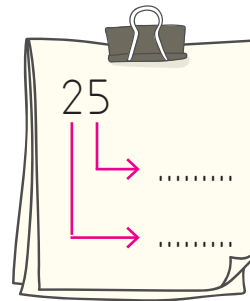
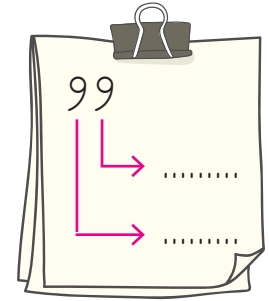
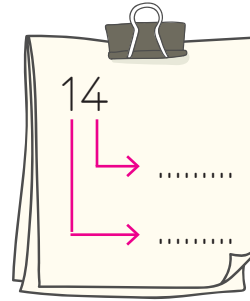
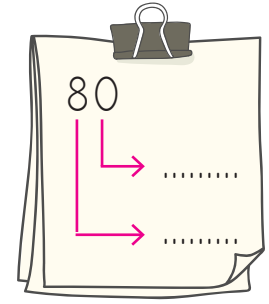
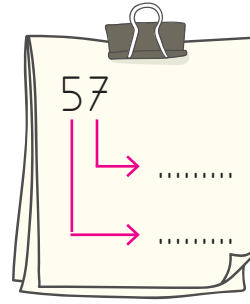
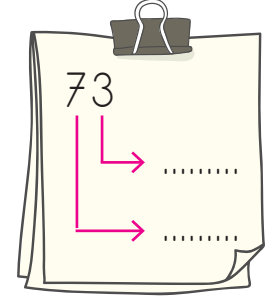
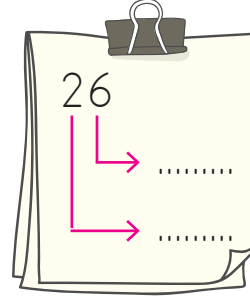
Birler bas. rakam →


Onlar bas. rakam →

Birler bas. rakamın basamak deęeri →

Onlar bas. rakamın basamak deęeri →

2. Aşağıdaki sayıların basamaklarındaki rakamların basamak deęerlerini yazalım.








1. Yukarıdaki görselde verilen sayılarla ilgili aşağıdaki soruları yanıtlayalım.

Birler basamağında 3 rakamı yer alan kaç tane sayı vardır?

Onlar basamağında 4 rakamı yer alan kaç tane sayı vardır?

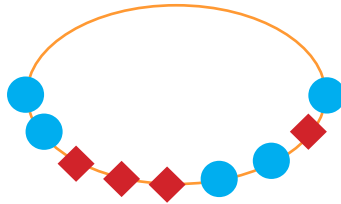
Birler basamağında 9 olan en büyük sayı kaçtır?

2. Aşağıdaki kolyelerde  şeklindeki boncuklar onlukları,  şeklindeki boncuklar ise birlikleri ifade etmektedir.




Sayı:

Okunuşu:
.....



Sayı:

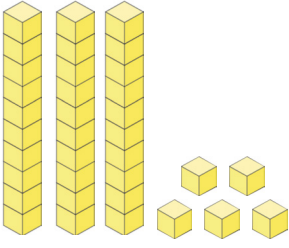
Okunuşu:
.....



Sayı:

Okunuşu:
.....

1



Yukarıda taban blokları ile gösterilen sayının onlar basamağındaki rakamın basamak değeri hangisidir?

- A) 3 B) 30 C) 35

2



İlyas

Rakamlarının basamak değerleri 90 ve 4 olan sayının okunuşu hangisidir?

İlyas'ın sorusunun yanıtı aşağıdakilerden hangisidir?

- A) 49
B) 94
C) 90

3

83

80

18

Renkli kutucuklarda yazılı sayılardan hangisinin birler basamağında 8 rakamı yer alır?

- A)  B)  C) 

4 Birler basamağında 9, onlar basamağında 3 bulunan sayı ile ilgili aşağıdaki ifadelerden hangisi yanlıştır?

- A) "Otuz dokuz" şeklinde okunur.
B) Onlar basamağındaki rakamın basamak değeri 30'dur.
C) 9 onluk, 3 birlikten oluşur.

5

1


6

2

Yukarıdaki rakamlar kullanarak oluşturulan sayılarla ilgili verilen bilgilerden hangisi yanlıştır?

- A) Bu rakamları kullanarak bir des-teyi ifade eden sayı yazılabilir.
B) Oluşan en büyük sayı 6 onluk ve 2 birlikten oluşur.
C) Bu rakamlarla 1 onluk, 6 birlikten oluşan sayı yazılabilir.

6



Yukarıdaki elmaların tahmini sayısı aşağıdakilerden hangisi olamaz?

- A) 9 B) 45 C) 11



Yukarıdaki sayılardan kaç tanesinin birler basamağındaki rakam 5'tir?


- A) 2 B) 3 C) 4

8 Aşağıdaki sayılardan hangisinin basamak adları doğru yazılmıştır?

A) 56
 ↳ Birler basamağı
 ↳ Onlar basamağı

B) 74
 ↳ Birler basamağı
 ↳ Birler basamağı

C) 89
 ↳ Onlar basamağı
 ↳ Birler basamağı



Yukarıdaki sayıya 5 eklersek yeni oluşacak sayının onlar basamağındaki rakamın basamak değeri hangisi olur?

- A) 2 B) 10 C) 20

10 Birler basamağı 7, onlar basamağı 2 olan sayının okunuşu hangisinde doğru olarak verilmiştir?

- A) Yirmi yedi
 B) Yetmiş iki
 C) Yirmi iki

11



Buğra'nın yukarıda verilen sayının onlar basamağındaki rakamın basamak değeri kadar parası vardır.

Buna göre Buğra'nın kaç TL parası vardır?

- A) 84 TL
 B) 80 TL
 C) 40 TL

12

2 düzine

Yukarıda verilen sayı için aşağıdaki ifadelerden hangisi doğrudur?


- A) Bu sayı 20'dir.
 B) Onlar basamağında 4 vardır.
 C) Bu sayının birler basamağındaki rakamın basamak değeri 4'tür.

1. Rapunzel'in prene ulaşmasına yardımcı olmak için aşağıdaki su damlalarının üzerine 1'den başlayarak 50'ye kadar 1'erli sayıp yazınız.



A grid of 50 water droplets arranged in 10 rows and 5 columns. The first droplet in the top row is labeled with the number '1'. A pink arrow points to the first droplet. To the left of the grid is an illustration of Rapunzel with long blonde hair, and to the right is an illustration of a prince climbing the tower.

2. Kırmızı Başlıklı Kız'ın kurttan kaçmasına yardımcı olmak için su damlalarının üzerine 50'den başlayarak 99'a kadar 1'erli sayıp yazınız.

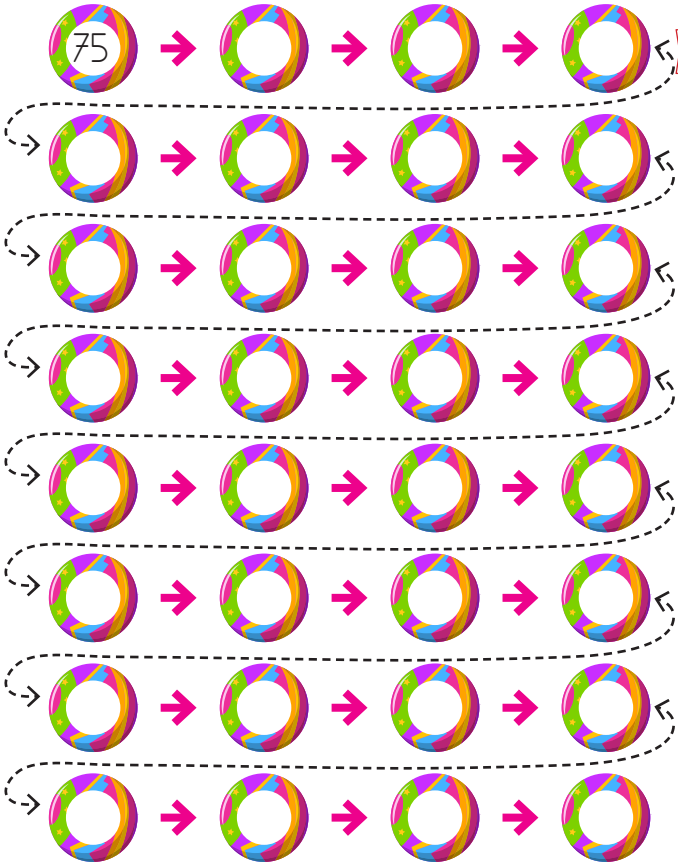


A grid of 50 water droplets arranged in 10 rows and 5 columns. The first two droplets in the top row are labeled with the numbers '50' and '51'. A pink arrow points to the first droplet. To the left of the grid is an illustration of a wolf in a bed, and to the right is an illustration of Little Red Riding Hood walking.

1. Aşağıda verilen yüzlük tabloda eksik bırakılan sayıları yazınız.

1	2	3				8		
			14					19
	22				26			
				35				40
		43			47			
								59
61			64					
	72			75			78	
		83				87		
91				95				99

2. Aşağıda belirtilen sayılardan geriye doğru 1'er sayıp yazınız.



3. Aşağıdaki soruları yanıtlayınız.

1



Yukarıdaki sayıdan başlayarak geriye doğru 1'er yazdığımızda "?" yerine hangi sayıyı yazmalıyız?

- A. 22 B. 21 C. 20

2



Yukarıdaki sayıdan başlayarak ileri doğru 1'er yazdığımızda "?" yerine hangi sayıyı yazmalıyız?

- A. 42 - 44 B. 42 - 43

C. 43 - 45

3

88

Yukarıdaki sayıdan başlayarak (88 dahil) geriye doğru saydığımız zaman 4. sırada hangi sayıyı söyleriz.

- A. 86 B. 85 C. 84


4

63

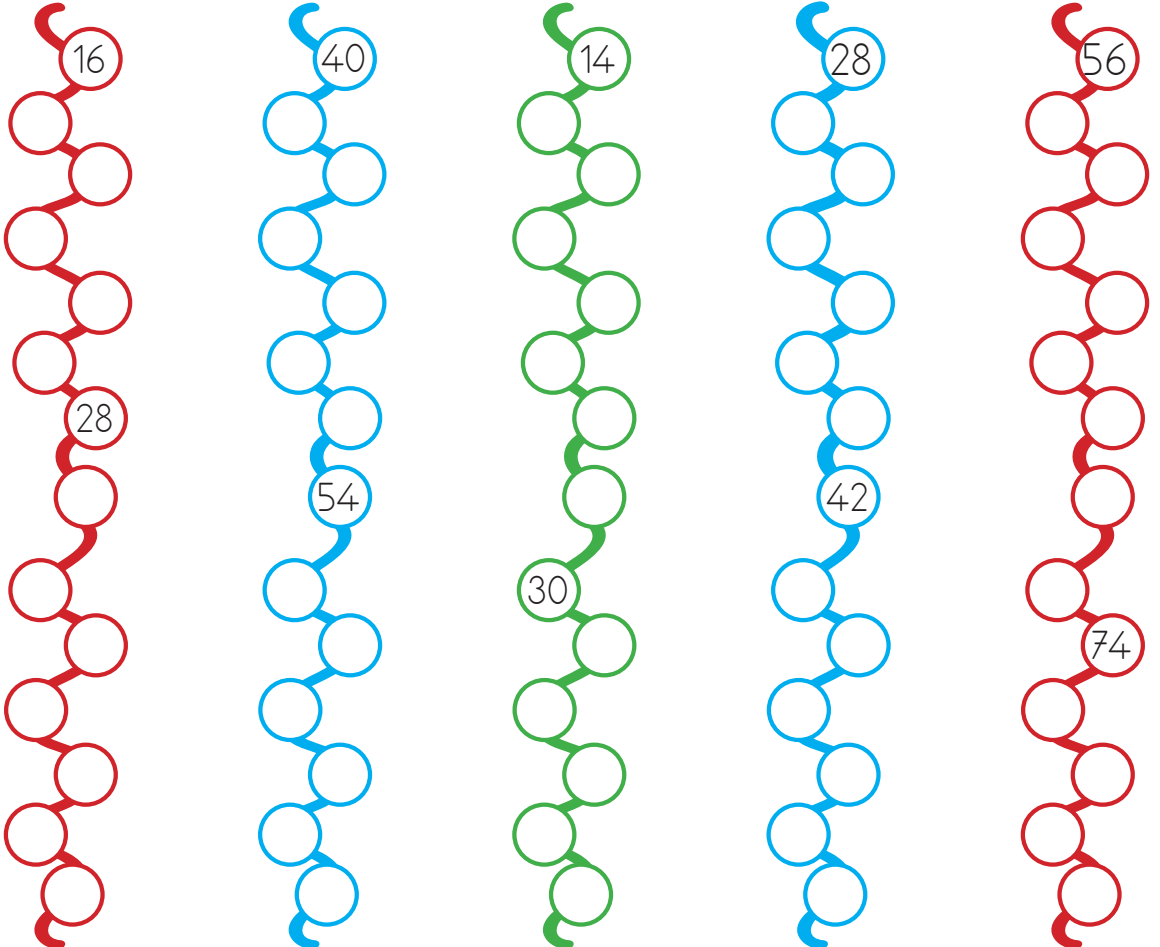
Yukarıdaki sayıdan başlayarak (63 dahil) ileri doğru saydığımız zaman 6. sırada hangi sayıyı söyleriz.

- A. 68 B. 69 C. 70

1. Saksidaki çiçeklerin sayısını ikişerli ritmik sayarak yazınız.



2. Aşağıdaki sayılardan başlayarak ileriye doğru ikişerli ritmik sayıp yazınız.



1. Sindirella'nın ayakkabılarına ulaşmasına yardımcı olmak için 100'den geriye 2'şerli ritmik sayıp yazınız.

100 86 76 64 50 38 24 2

2. Vagonun üzerinde bulunan sayıdan başlayıp ileriye ve geriye doğru 2'şerli ritmik sayıp yazınız.

54 56 58 78 40 62