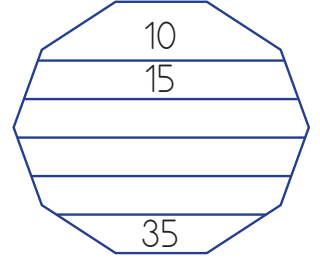
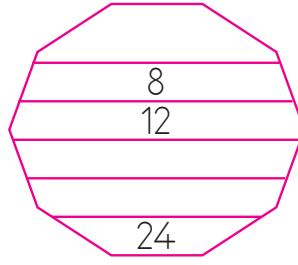
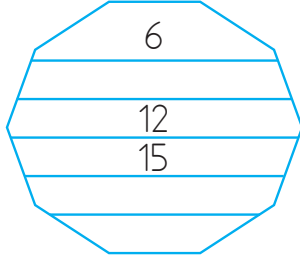
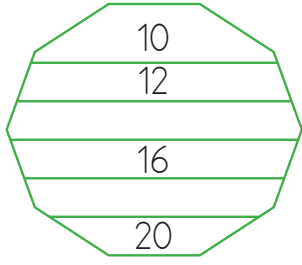


1. Aşağıdaki şekillerde yukarıdan aşağıya doğru ritmik saymalar yapılmıştır. Kaçarlı ritmik sayma yapıldığını bulup boşluklara uygun sayıları yazınız.



2. Aşağıdaki tablonun kutucuklarını verilenlere uygun bir şekilde boyayalım.

- Üçer ritmik sayarken söylediğiniz sayıların kutucukları maviye,
- Dörder ritmik sayarken söylenen sayıların kutucukları sarıya,
- Hem üçer hem de dörder ritmik sayma yaparken söylenen sayıların kutucuklarını yeşile boyayalım.

1	2	3	4	5	6	7	8	9	10	11	12	13	14	15
16	17	18	19	20	21	22	23	24	25	26	27	28	29	30

3. En üstte verilen sayılardan başlayarak geriye doğru dörder ritmik sayalım. Söylediğiniz sayıları uygun alanlara yazalım.

