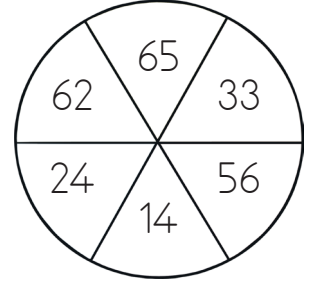
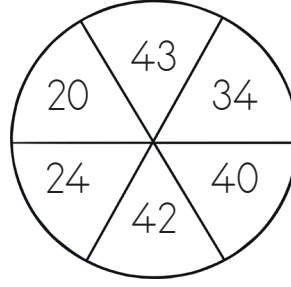
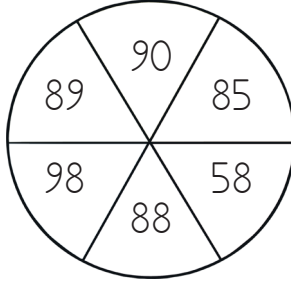
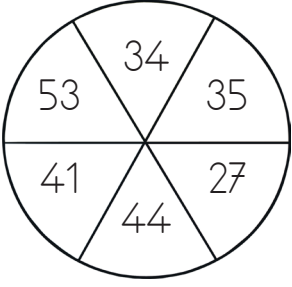
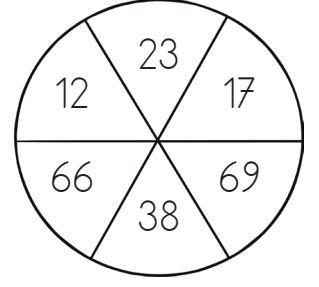
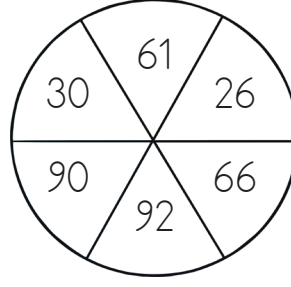
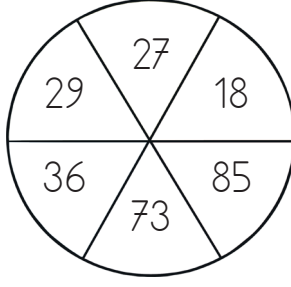
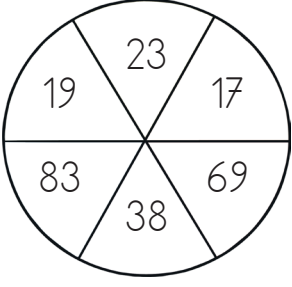


1. Aşağıdaki tablolarda verilen sayılardan en büyük olanın olduğu bölümü sarıya, en küçük olanın olduğu bölümü maviye boyayalım.



2. Aşağıda belirtilen sayılardan 4 tanesini uygun alanlara yazalım.

⇒ 17'den büyük 36'dan küçük sayılar :

⇒ 45'ten küçük 18'den büyük sayılar :

⇒ 53'den küçük 24'ten büyük sayılar :

⇒ 62'den büyük 69'dan küçük sayılar :

⇒ 71'den küçük 50'den büyük sayılar :

⇒ 33'ten büyük 43'ten küçük sayılar :

⇒ 90'dan küçük 81'den büyük sayılar :