



Akvaryumumuzda 13 tane balığımız vardı. Babam 8 tane daha balık aldı. Akvaryumda toplam kaç balığımız oldu?




Parkta uçuşan 15 kelebek vardı. Daha sonra yanlarına 17 tane kelebek daha geldi. Parkta toplam kaç kelebek oldu?



Annemin yaptığı kurabiyelerden ben 14 tane yedim. Ablam ise 16 tane yedi. İkimizin yediği toplam kurabiye sayısını bulunuz.



Bir pizza dükkanında dün 45 pizza satıldı. Bugün de 35 pizza satıldı. İki günde satılan pizza sayısını bulunuz.



Benim 36 tane renkli düğmem var. Annem bana 48 düğme daha verirse toplam kaç düğmem olur?



Pastanede dün 43, bugün 37 kek satılırsa iki günde toplam kaç tane kek satılmış olur?

Pazar günü yapılacak olan yüzme yarışmasına Türkiye'den 33, Almanya'dan 18 ve İspanya'dan 26 yüzücü katılacaktır. Yarışmadaki toplam yüzücü sayısını bulunuz.



Hayvanat bahçesinde 54 tane tavşan vardı. Daha sonra 18 tavşan daha geldi. Buna göre hayvanat bahçesinde toplam kaç tavşan oldu?



Okulumuzun bahçesine 33 tane çiçek diktik. 48 tane daha çiçek dikersek toplam kaç çiçeğimiz olur?

Kumbaramda 16 lira vardı. Daha sonra dedem 25 lira verdi. Dayım da 13 lira verdi. Buna göre benim toplam kaç liram oldu?

