

● Maddelerin katı, sıvı ve gaz hâlleri verilmiştir. Bu maddeler ile özelliklerini eşleştiriniz.

Buldukları kabın şeklini alırlar.

Sıkıştırılmazlar.

Belli bir şekilleri vardır.

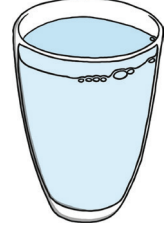
Akıcıdırlar.

Belli bir şekli yoktur.

Buldukları kabı tamamen doldurabilir.



Gaz




Sıvı



Katı

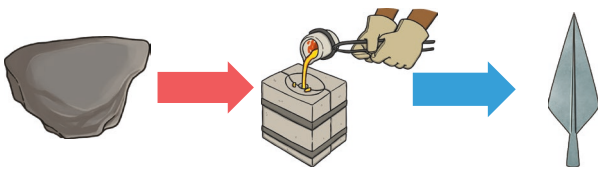
● Aşağıdaki maddeleri inceleyip değişimlerini gözlemleyiniz. Maddelerin altına "katı, sıvı, gaz" sözcüklerinden uygun olanları yazınız.



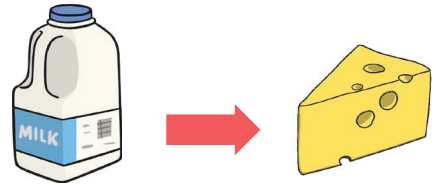
.....



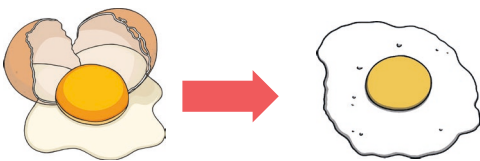
.....




.....



.....



.....



.....