

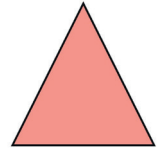





SİMETRİ

İki eş parçaya ayrılabilen şekillere simetrik şekiller deriz.
Simetrik şekillerde parçalar birbirinin eşidir.

- Aşağıdaki görsellerden iki eş parçaya ayrılacak olanları örnekteki gibi işaretleyiniz.



- Aşağıda verilen simetrik şekilleri örnekteki gibi bir çizgi ile iki eş parçaya ayırınız.



- Aşağıda verilen şekilleri simetriği olan parçalarla eşleştiriniz.

