








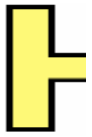
# SİMETRİ

Herhangi iki nesne ya da şekil üst üste katlandığında her iki parça birbirine eşit oluyorsa bu nesnelere "simetriktir" denir. İki eş parçaya ayrılabilen şekillere simetrik şekil deriz. Simetrik şekillerde parçalar birbirinin eşidir.

- Aşağıda verilen şekilleri inceleyiniz. Örnekteki gibi iki eş parçaya ayıran simetri doğrularını çiziniz.



- Aşağıda verilen şekilleri simetriği olan parçalarla eşleştiriniz.



- Aşağıda verilen şekillerin, simetri çizgilerine göre diğer yarılarını (eş parçalarını) çiziniz.



- Aşağıdaki şekilleri inceleyiniz. İki eş parçaya ayrılabilenleri işaretleyiniz.

