






2 İLE ÇARPMA İŞLEMİ

● Aşağıdaki vişnelerin sayısını örnekteki gibi bulunuz.




 $1 \times 2 = 2$

  \times =









   \times =

    \times =

     \times =

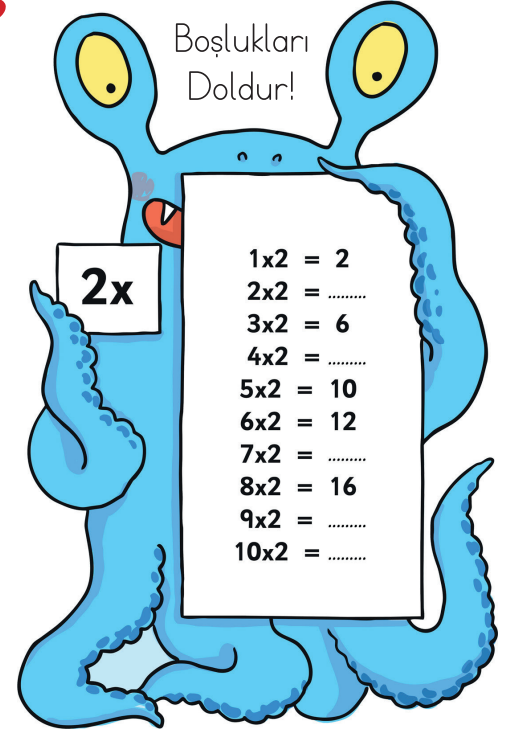
      \times =

       \times =

        \times =

         \times =

          \times =



● Vazolardaki çiçeklerin sayısını çarpma işlemi kullanarak örnekteki gibi bulunuz.



$3 \times 2 = 6$



..... \times =



..... \times =



..... \times =



..... \times =



..... \times =