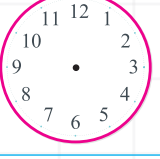

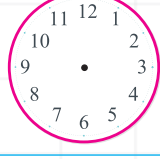
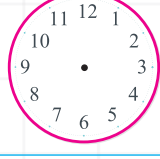

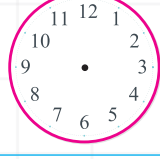








# SAAT PROBLEMLERİ -2-

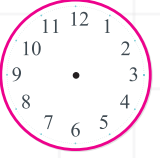

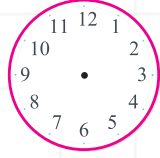
● Saatlerimizi başlama bitiş zamanlarına göre tamamlayıp soruları çözümlüyoruz.

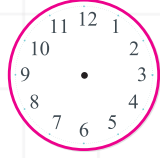


Başlangıç		Bitiş
		
<p>Saat 07.00'da oturduğum kahvaltı masasından 25 dakika sonra kalktım. Acaba kalktığımda saat kaç olmuştur?</p> <p><b>ÇÖZÜM:</b></p>		

Başlangıç		Bitiş
		
<p>Annemin saat 10.00'da başladığı temizlik tam iki buçuk saat sürdü. Acaba annem işini bitirdiğinde saat kaç gösteriyordu?</p> <p><b>ÇÖZÜM:</b></p>		

Başlangıç		Bitiş
		
<p>Saat 21.00'da başladığım kitabı yarım saat okudum ve bıraktım. Kitabı bıraktığımda saat kaçtı?</p> <p><b>ÇÖZÜM:</b></p>		

Başlangıç		Bitiş
		
<p>Saat 17.00'da başlayan maç tam 1 saat 45 dakika sürdü. Acaba maç saat kaçta bitmiştir?</p> <p><b>ÇÖZÜM:</b></p>		

Başlangıç		Bitiş
		
<p>20.00'da bulaşıklara başlayan annem çeyrek saat içinde işini bitirdi. Annem işini bitirdiğinde saat kaçtı?</p> <p><b>ÇÖZÜM:</b></p>		

Başlangıç		Bitiş
		
<p>Saat 14.30'da alışverişe çıkan annem 4 buçuk saat sonra eve döndü. Annem saat kaçta eve dönmüştür?</p> <p><b>ÇÖZÜM:</b></p>		