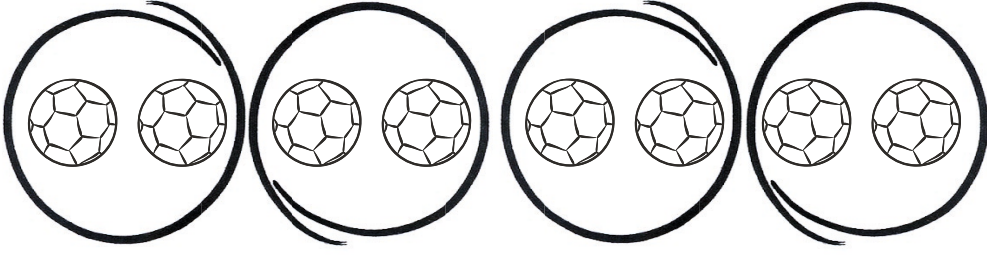



Aşağıdaki nesneleri örnekteki gibi gruplayınız.



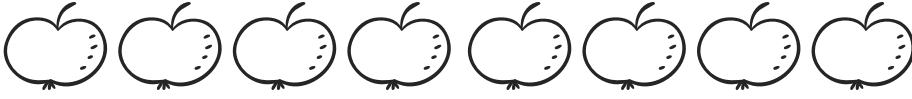
8 tane topu ikişerli grupladığımız zaman4.... grup oluşur.



12 pastayı üçerli grupladığımız zaman grup oluşur.



15 şekeri beşerli grupladığımız zaman grup oluşur.



8 elmayı ikişerli grupladığımız zaman grup oluşur.



14 çiçeği ikişerli grupladığımız zaman grup oluşur.



10 dondurmayı beşerli grupladığımız zaman grup oluşur.



9 ayakkabıyı üçerli grupladığımız zaman grup oluşur.