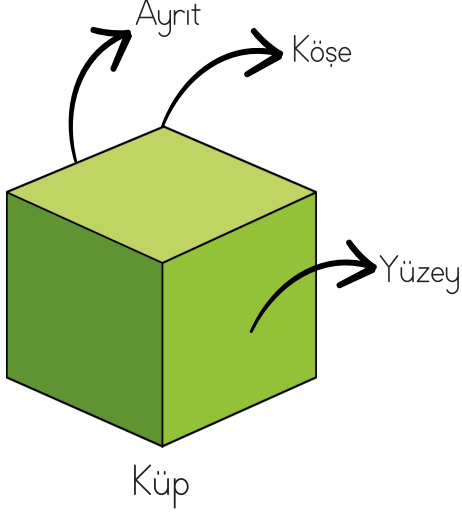


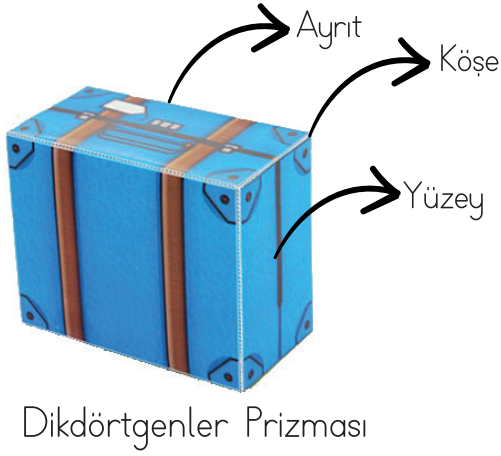

GEOMETRİK CİSİMLER YÜZ, KÖŞE, AYRIT

● Geometrik cisimleri ve açınımlarını inceleyip noktalı yerleri doldurunuz.



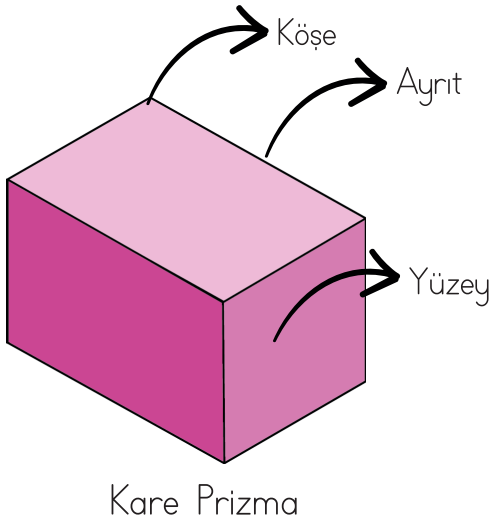
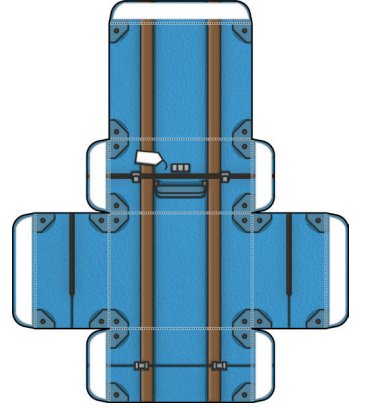
Kimlik Kartı

Köşe Sayısı:
Ayrıt Sayısı:
Yüz Sayısı:
Küpün yüzleri
..... şeklindedir.



Kimlik Kartı

Köşe Sayısı:
Ayrıt Sayısı:
Yüz Sayısı:
Dikdörtgenler
Prizmasının yüzleri
..... şeklindedir.



Kimlik Kartı

Köşe Sayısı:
Ayrıt Sayısı:
Yüz Sayısı:
Kare prizmanın 2 yüzü
..... bölge,
4 yüzü
şeklindedir.

