



# BÜTÜN VE YARIM SAYISINI BULALIM

Verilenlere göre, bütün ve yarım sayılarını doğru bir şekilde doldurunuz.



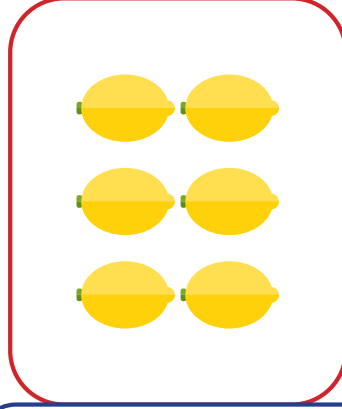
Bütün sayısı: .....

Yarım sayısı: .....




Bütün sayısı: .....

Yarım sayısı: .....




Bütün sayısı: .....

Yarım sayısı: .....




Bütün sayısı: .....

Yarım sayısı: .....




Bütün sayısı: .....

Yarım sayısı: .....



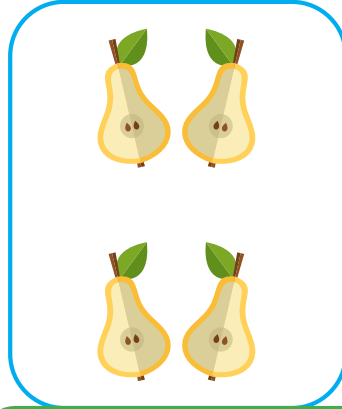
Yarım sayısı: .....

Bütün sayısı: .....




Yarım sayısı: .....

Bütün sayısı: .....




Yarım sayısı: .....

Bütün sayısı: .....



Yarım sayısı: .....

Bütün sayısı: .....



Yarım sayısı: .....

Bütün sayısı: .....