

● Aşağıdaki görselleri inceleyiniz. Altlarına "doğru", "doğru parçası" veya "ışın" adlarından uygun olanını yazınız.




.....



.....



.....



.....



.....



.....



.....






.....

● Aşağıdaki cümlelerin sonundaki noktalı yerlere "doğru", "ışın", "doğru parçası" ifadelerinden uygun olanları yazınız.

- ✓ İki ucu da açılmamış olan kalem modeline örnektir.
- ✓ Arabaların gittiği yol modeline örnektir.
- ✓ Cetvel modeline örnektir.
- ✓ Başımızda uzayan saçlarımız modeline örnektir.
- ✓ Çubuk makarnalar modeline örnektir.
- ✓ İki ucu da açılmış kurşun kalem modeline örnektir.
- ✓ Çiviler modeline örnektir.

● Aşağıdaki test sorularını yanıtlayınız.

1. Aşağıdaki eşleştirmelerden hangisi yanlıştır?

- a.  doğru
- b.  ışın
- c.  doğru parçası

2. Aşağıdakilerden hangileri doğrudur?

- 1. Doğru parçası iki ucundan sınırlıdır.
- 2. Doğru iki ucundan da sınırsızdır.
- 3. Işın bir ucundan sınırlı bir ucundan sınırsızdır.

- a. 1 ve 2
- b. 2 ve 3
- c. 1, 2 ve 3

3. Doğrunun çizgi modelinin her iki ucundaki okun anlamı aşağıdakilerden hangisidir?

- a. İki ucundan da uzatılamayacağı
- b. İki ucundan istenildiği kadar uzatılabileceği
- c. Bir ucundan istenildiği kadar uzatılabileceği



4. Aşağıdaki ifadelerden hangisi yanlıştır?

- a. Doğru iki ucu sınırsız çizgidir.
- b. Doğru parçası iki ucu sınırlı çizgidir.
- c. Doğru bir ucu sınırlı çizgidir.

5. "F" harfinde kaç adet doğru parçası vardır?

- a. 2
- b. 3
- c. 4

6. Aşağıdaki çizgi modellerinden hangisi "ışın" değildir?

- a. 
- b. 
- c. 