
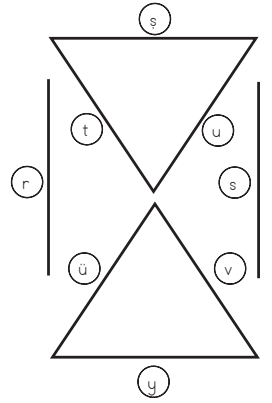
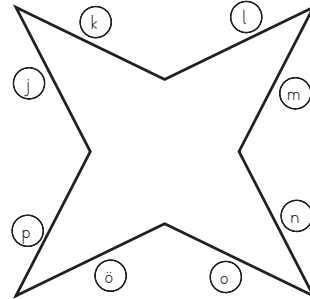
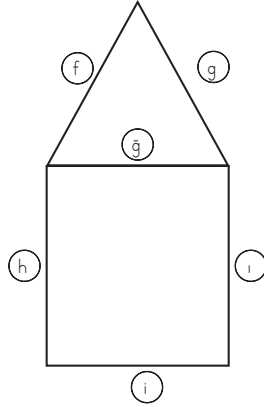
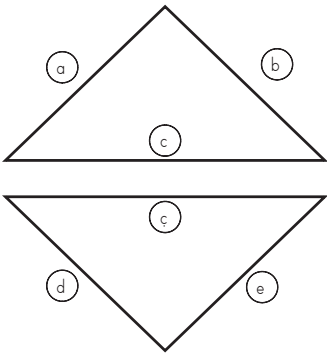


● Aşağıda verilen noktali zemin üzerinde mavi renkli 3 tane yatay, kırmızı renkli 3 tane dikey parçası ve yeşik renkli 3 tane eğik doğru modeli çiziniz.



● Şekillerdeki doğru modellerinin harflerle belirtilen adlarını tabloya yazınız.



Doğrular	Adı
Yatay	
Dikey	
Eğik	

Doğrular	Adı
Yatay	
Dikey	
Eğik	

Doğrular	Adı
Yatay	
Dikey	
Eğik	

Doğrular	Adı
Yatay	
Dikey	
Eğik	