


ETKİNLİK ZAMANI


👉 Aşağıdaki geometrik şekillerle ilgili yazılan ifadelerden doğru olanların başındaki "D" harfini, yanlış olanların başındaki "Y" harfini boyayınız.




- D Y Yandaki şekil karedir.
- D Y Şeklin 3 kenarı vardır.
- D Y Şeklin 4 köşesi vardır.
- D Y Bütün kenarları eşit uzunluktadır.



- D Y Yandaki şekil dikdörtgendir.
- D Y Karşılıklı kenarları eşit uzunluktadır.
- D Y 5 köşesi vardır.
- D Y Hiç kenarı ve köşesi yoktur.



- D Y Yandaki şekil çemberdir.
- D Y Şeklin 3 kenarı vardır.
- D Y Şeklin 3 köşesi vardır.
- D Y Hiç kenarı ve köşesi yoktur.



- D Y Yandaki şekil çemberdir.
- D Y Hiç kenarı yoktur.
- D Y 4 köşesi vardır.
- D Y Hiç kenarı ve köşesi yoktur.