


# GEOMETRİK ŞEKİLLER

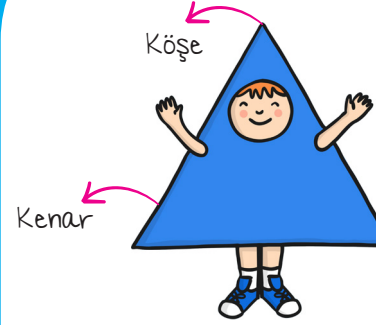
Aşağıdaki geometrik şekilleri inceleyiniz.

## KARE




- ✓ 4 köşesi vardır.
- ✓ 4 kenarı vardır.
- ✓ Bütün kenar uzunlukları birbirine eşittir.

## LÜÇGEN




- ✓ 3 köşesi vardır.
- ✓ 4 kenarı vardır.

## DİKDÖRTGEN



- ✓ 4 köşesi vardır.
- ✓ 4 kenarı vardır.
- ✓ Karşılıklı kenar uzunlukları birbirine eşittir.

## ÇEMBER



- ✓ Çemberin kenarı ve köşesi yoktur.