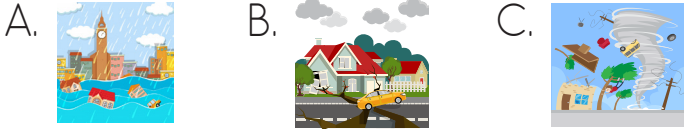


HAYAT BİLGİSİ DEĞERLENDİRME TESTİ

Sürekli bir biçimde yağan yağmurdan ya da eriyen karlardan oluşan, geçtiği yerlere zarar veren taşkın su.

1 Yukarıda tanımı verilen doğal afetin görseli aşağıdakilerden hangisidir?



2 Aşağıdakilerden hangisi çevreyi kalıcı olarak kirletir?

- A. Meyve kabukları
B. Ağaçlardan düşen yapraklar
C. Plastik poşetler



- ★ Beslenme ★ Güvenlik
★ Sağlık

3 Yukarıda bazı meslekler ve alanları verilmiştir. Bu mesleklerle alanlar eşleştirildiğinde hangi meslek açıkta kalır?

- A. Aşçı
B. İnşaat Ustası
C. Polis



Güneşin doğduğu yöne , battığı yöne denir.

4 Efe'nin cümlesinde noktalı alanlara sırasıyla hangileri gelmelidir?

- A. batı, doğu B. doğu, batı
C. doğu, doğu

- 5 ★ Ambulans → 112
▲ İtfaiye → 110
■ Polis → 156

Yukarıdaki acil durum numaralarından hangisi yanlıştır?



- A. ■ B. ▲ C. ★

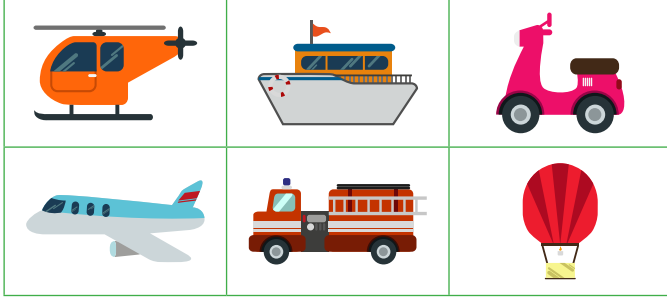
6 Mustafa Kemal, Mahalle Mektebi'nden sonra aşağıdaki okullardan hangisine devam etmiştir?

- A. Manastır Askeri Lisesi
B. Harp Akademisi
C. Şemsi Efendi İlkokulu

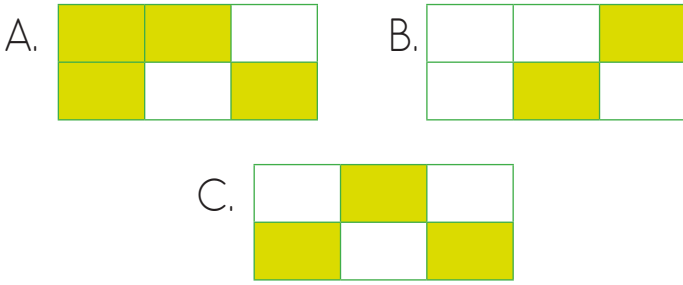
7 Aile içinde karar alırken aşağıdakilerden hangisini dikkate almalıyız?

- A. Ailedeki tüm bireylerin görüşleri önemlidir.
B. Tüm kararları babalar alır.
C. Anne ve babalar karar almalıdır.

8 Aşağıdaki tabloda kara yolu taşıtı bulunan kutular boyanacaktır.



Buna göre boyama tamamlandığında tablonun görünüşü aşağıdakilerden hangisi olacaktır?



9 Yandaki görselde anlatılan mevsim aşağıdakilerden hangisidir?



A. İlkbahar B. Kış C. Sonbahar

10 Kağıt atıkları geri dönüşüme gönderirsek aşağıdakilerin hangisinden tasarruf yapmış oluruz?

A. Su B. Gaz C. Orman

Annemizin
erkek kardeşi

Annemizin
kız kardeşi

11 Aşağıdakilerden hangisinin açıklaması yukarıda verilmemiştir?

A. Dayı B. Hala C. Teyze

12 Barış balkondan baktığında karşı evden dumanlar yükseldiğini gördü. Buna göre Barış bu olayla ilgili öncelikle hangi numarayı arayıp yardım istemelidir?

A. 112 B. 155 C. 110

13 Bağımsızlığımızın sembollerinden birisi olan İstiklâl Marş'ımızı kim yazmıştır?

A. Mustafa Kemal Atatürk
B. Mehmet Akif Ersoy
C. Osman Zeki Üngör

14




Millî bayramlarımız çok özel ve önemli günlerdir.

Aşağıdakilerden hangisi öğretmenin bahsettiği milli bayramlardan değildir?

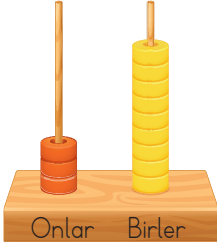
A. 29 Ekim Cumhuriyet Bayramı
B. Kurban Bayramı
C. 23 Nisan Ulusal Egemenlik ve Çocuk Bayramı

15 Aşağıdakilerden hangisi Türk kültür öğelerinden birisi değildir?



MATEMATİK DEĞERLENDİRME TESTİ

1



Abaküslle gösterilen sayıyla ilgili aşağıdaki ifadelerden hangisi yanlıştır?

- A. "Otuz dokuz" şeklinde okunur.
B. Birler basamağında 8 rakamı yer alır
C. 3 rakamının basamak değeri 30'dur.

2



Yukarıdaki sayı örüntüsünde "?" yerine aşağıdaki sayılardan hangisi gelmelidir?

- A. 32 B. 33 C. 34

3



Alya

52 sayısının 7 eksiği kaç olur?

Alya'nın sorduğu sorunun çözümünü veren işlem aşağıdakilerden hangisidir?

- A. $\begin{array}{r} 52 \\ + 7 \\ \hline 59 \end{array}$ B. $\begin{array}{r} 52 \\ - 7 \\ \hline 45 \end{array}$ C. $\begin{array}{r} 52 \\ + 17 \\ \hline 69 \end{array}$

4

Benim 1 düzine kalemim vardı. Kalemilerimden 3 tanesini arkadaşşıma verdim. Kaç tane kalemim kaldı?

- A. 7 B. 8 C. 9


18



?

5 Yukarıdaki karelerin içlerinde yazan sayılar toplanıp üçgenin içerisine yazılmıştır. Buna göre "?" ile belirtilen yere aşağıdakilerden hangisi yazılmalıdır?

- A. 65 B. 29 C. 18



6 Yukarıdaki görsellerde toplam kaç bütün elma vardır?

- A. 3 elma
B. 6 elma
C. 9 elma

7

$6 \times 3 = 12$

$8 \times 0 = 0$

$7 \times 1 = 7$


$3 \times 10 = 3$

$5 \times 2 = 5$

$17 \times 0 = 17$

Yukarıdaki çarpma işlemlerinden kaç tanesi doğru yapılmıştır?

- A. 2 B. 3 C. 4



8 Alin'in 12 lirası vardır. Yukarıdaki oyuncacı almak istiyor.

Buna göre aŖağıdaki cümlelerden hangisi doğrudur?

- A. Ali oyuncacı alır ve 3 lirası artar.
B. Alin'in oyuncacı almak için 3 liraya ihtiyacı vardır.
C. Alin'in oyuncacı almak için 15 liraya daha ihtiyacı vardır.



9 Emre yukarıdaki topları iki gruba ayırdı. Buna göre her grupta kaç top olur?

- A. 2 B. 3 C. 4


10 Mert her gün okulda 3 TL harcamaktadır. Mert 5 günde kaç TL harcar? Yukarıdaki problemin sonucunu hangi işlemle bulamayız?

- A. 5×3
B. $3 + 3 + 3 + 3 + 3$
C. $5 + 5 + 5 + 5 + 5$

11 AŖağıdakilerden hangisi yaz mevsiminin aylarından değildir?

- A. haziran B. mayıs C. temmuz

12




2 numaralı saat 1 numaralı saatten kaç dakika ileridedir?

- A. 15 B. 30 C. 45

13 AŖağıdaki standart olmayan ölçü birimlerinden hangisi en uzundur?

- A. kulaç B. karış C. parmak

14 Yandaki kapının uzunluğu 1 metre 60 santimetredir. Buna göre aŖağıdaki çocuklardan hangisi bu kapıdan geçerken eğilmek zorundadır?



- A. Yasin: 1 metre 55 santimetre
B. Aylin: 1 metre 59 santimetre
C. Selçuk: 1 metre 65 santimetre

15 Annem benden 27 kilogram daha fazladır. Annem 53 kilogram olduğuna göre ben kaç kilogramımdır?

- A. 27 B. 26 C. 80

TÜRKÇE DEĞERLENDİRME TESTİ

1-2-3. soruları aşağıdaki metne göre yanıtlayınız.

“Yemyeşil çimenlerin, rengârenk çiçeklerin kaynaştığı bir ülke varmış. Kuşlar ötüşür, kelebekler uçuşurmuş etrafta. Evleri köşk, köşkleri saray gibiymiş. Irmakları şeker şerbet akarmış, bir uçtan diğer uca. Büyük, meyveli ağaçlar mavi gökle buluşur; güneşle kucaklaşmış. Meyvelerin ise tadına doyum olmazmış...”

1 Parçada anlatılan ülke için hangisi söylenemez?

- A. Yeşilliktir.
- B. Rengârenk çiçeklidir.
- C. Çöl gibidir.

2 Aşağıdakilerden hangisi parçada adı geçen hayvanlardan biri değildir?

- A. Ötüşen kuşlar
- B. Koşuşan atlar
- C. Uçuşan kelebekler

3 Aşağıdakilerden hangisi parçada söz edilen ağaçların özelliklerden değildir?

- A. Büyüktürler.
- B. Meyvelidirler.
- C. Küçüktürler.

4 “Ah, benim akılsız kafam!” cümlesinde altı çizili sözcüğün yerine hangisi yazılırsa cümlenin anlamı bozulmaz?

- A. huyum
- B. başım
- C. arkadaşım

panter kedi zebra leylek

5 Yukarıdaki sözcükleri alfabetik sıra ile yazmak istersek sıralama aşağıdakilerden hangisi olur?

- A. kedi - leylek - zebra - panter
- B. kedi - leylek - panter - zebra
- C. kedi - zebra - leylek - panter

6 Aşağıdaki tümcelerin hangisinde “diz” sözcüğü farklı anlamda kullanılmıştır?

- A. Boncukları ipe diz.
- B. Müdür, öğrencileri sıraya diz dedi.
- C. Düşünce diz kapağını yere çarptı.

7 Aşağıdakilerden hangisi cümle değildir?

- A. Çok çalışıp öğretmenin gözüne gir
- B. Kardeşimle birlikte parkta oyun
- C. Annesinin söylediklerine kulak asmadı

8 Aşağıdakilerden hangisinde yazım yanlışı yapılmıştır?

- A. Okulda Ali ile Berat kavga etti.
- B. Ödevini yapmadığı için korkuyordu.
- C. Bizi gezmeye götürmeyecekmiydin?

9 Aşağıdaki cümlelerin hangisinde sebep - sonuç ilişkisi vardır?

- A. Borcunu ödemekte çok zorlanıyordu.
- B. Borçlarını taksitle ödeyip bitirdi.
- C. Borcunu ödeyemedi bu yüzden borç istedi.

- 1. pikniğe
- 2. amcamlarla
- 3. yarın
- 4. gideceğiz
- 5. birlikte

10 Numaralandırılmış sözcükleri kullanarak anlamlı ve kurallı bir cümle oluşturmak istersek sıralama hangisi gibi olur?

- A. 3 - 2 - 5 - 4 - 1
- B. 3 - 2 - 5 - 1 - 4
- C. 3 - 4 - 5 - 2 - 1

11 "Öğretmenimin anlattıklarını sessizce dinledim." tümcesinde kaç hece vardır?

- A. 4
- B. 16
- C. 17

12 "Kediler olmasaydı, fareler dünyayı kaplardı." Cümlesinde kaç tane çoğul isim vardır?

- A. 1
- B. 2
- C. 3

13 Hangi sözcük çifti zıt anlamlıdır?

- A. kötü - fena.
- B. ağır - hafif
- C. nine - büyükanne

ilkokul.com

14 "Yemekte yedin?" cümlesinde noktalı yere hangisi yazılmalıdır?

- A. kebab
- B. ne
- C. kuru fasulye


15 Hangi cümlenin sonuna nokta konmalıdır?

- A. Bu soruyu soracağını biliyordum
- B. Enes hangi evde oturuyor
- C. Elifler geldi mi

HAYAT BİLGİSİ -CEVAP ANAHTARI-

Sürekli bir biçimde yağan yağ-
murdan ya da eriyen karlardan
oluşan, geçtiği yerlere zarar
veren taşkın su.

1 Yukarıda tanımı verilen doğal afetin
görseli aşağıdakilerden hangisidir?



2 Aşağıdakilerden hangisi çevreyi kalıcı
olarak kirletir?

- A. Meyve kabukları
B. Ağaçlardan düşen yapraklar
C. Plastik poşetler



- ★ Beslenme ★ Güvenlik
★ Sağlık

3 Yukarıda bazı meslekler ve alanları
verilmiştir. Bu mesleklerle alanlar eşleştiril-
diğinde hangi meslek açıkta kalır?

- A. Aşçı
B. İnşaat Ustası
C. Polis



Güneşin doğduğu yöne
....., battığı yöne
..... denir.

4 Efe'nin cümlesinde noktalı alanlara
sırasıyla hangileri gelmelidir?

- A. batı, doğu B. doğu, batı
C. doğu, doğu

- 5 ★ Ambulans → 112
▲ İtfaiye → 110
■ Polis → 156

Yukarıdaki acil durum numaralarından
hangisi yanlıştır?

- A. ■ B. ▲ C. ★

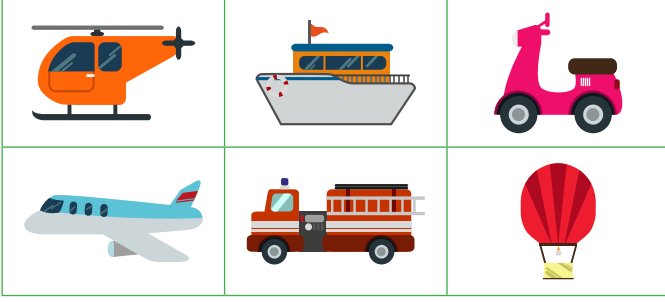
6 Mustafa Kemal, Mahalle Mektebi'n-
den sonra aşağıdaki okullardan hangisine
devam etmiştir?

- A. Manastır Askeri Lisesi
B. Harp Akademisi
C. Şemsi Efendi İlkokulu

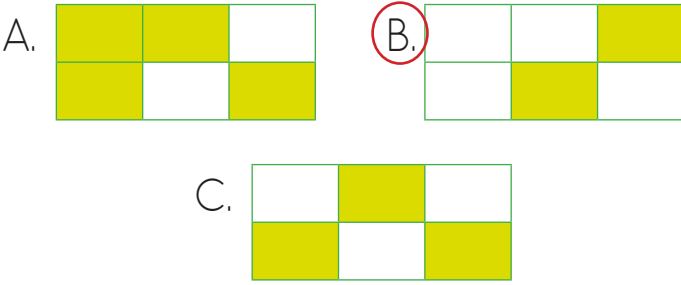
7 Aile içinde karar alırken aşağıdakiler-
den hangisini dikkate almalıyız?

- A. Ailedeki tüm bireylerin görüşleri önem-
lidir.
B. Tüm kararları babalar alır.
C. Anne ve babalar karar almalıdır.

8 Aşağıdaki tabloda kara yolu taşıtı bulunan kutular boyanacaktır.



Buna göre boyama tamamlandığında tablonun görünüşü aşağıdakilerden hangisi olacaktır?



9 Yandaki görselde anlatılan mevsim aşağıdakilerden hangisidir?



A. İlkbahar B. Kış C. Sonbahar

10 Kağıt atıkları geri dönüşüme gönderirsek aşağıdakilerin hangisinden tasarruf yapmış oluruz?

A. Su B. Gaz C. Orman

Annemizin
erkek kardeşi

Annemizin
kız kardeşi

11 Aşağıdakilerden hangisinin açıklaması yukarıda verilmemiştir?

A. Dayı B. Hala C. Teyze

12 Barış balkondan baktığında karşı evden dumanlar yükseldiğini gördü. Buna göre Barış bu olayla ilgili öncelikle hangi numarayı arayıp yardım istemelidir?

A. 112 B. 155 C. 110

13 Bağımsızlığımızın sembollerinden birisi olan İstiklâl Marş'ımızı kim yazmıştır?

A. Mustafa Kemal Atatürk
B. Mehmet Akif Ersoy
C. Osman Zeki Üngör

14




Millî bayramlarımız çok özel ve önemli günlerdir.

Aşağıdakilerden hangisi öğretmenin bahsettiği milli bayramlardan değildir?

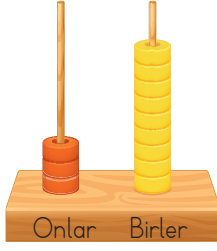
A. 29 Ekim Cumhuriyet Bayramı
B. Kurban Bayramı
C. 23 Nisan Ulusal Egemenlik ve Çocuk Bayramı

15 Aşağıdakilerden hangisi Türk kültür öğelerinden birisi değildir?



MATEMATİK -CEVAP ANAHTARI-

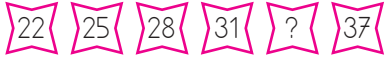
1



Abaküsle gösterilen sayıyla ilgili aşağıdaki ifadelerden hangisi yanlıştır?

- A. "Otuz dokuz" şeklinde okunur.
B. Birler basamağında 8 rakamı yer alır
C. 3 rakamının basamak değeri 30'dur.

2



Yukarıdaki sayı örüntüsünde "?" yerine aşağıdaki sayılardan hangisi gelmelidir?

- A. 32 B. 33 C. 34

3



Alya

52 sayısının 7 eksiği kaç olur?

Alya'nın sorduğu sorunun çözümünü veren işlem aşağıdakilerden hangisidir?

- A. $\begin{array}{r} 52 \\ + 7 \\ \hline 59 \end{array}$ B. $\begin{array}{r} 52 \\ - 7 \\ \hline 45 \end{array}$ C. $\begin{array}{r} 52 \\ + 17 \\ \hline 69 \end{array}$

4

Benim 1 düzine kalemim vardı. Kalemilerimden 3 tanesini arkadaşıma verdim. Kaç tane kalemim kaldı?

- A. 7 B. 8 C. 9


18

47

?

5 Yukarıdaki karelerin içlerinde yazan sayılar toplanıp üçgenin içerisine yazılmıştır. Buna göre "?" ile belirtilen yere aşağıdakilerden hangisi yazılmalıdır?

- A. 65 B. 29 C. 18



6 Yukarıdaki görsellerde toplam kaç bütün elma vardır?

- A. 3 elma
B. 6 elma
C. 9 elma

7

$6 \times 3 = 12$

$8 \times 0 = 0$

$7 \times 1 = 7$


$3 \times 10 = 3$

$5 \times 2 = 5$

$17 \times 0 = 17$

Yukarıdaki çarpma işlemlerinden kaç tanesi doğru yapılmıştır?

- A. 2 B. 3 C. 4



8 Alin'in 12 lirası vardır. Yukarıdaki oyuncacı almak istiyor. Buna göre aşağıdaki cümlelerden hangisi doğrudur?

- A. Ali oyuncacı alır ve 3 lirası artar.
B. Alin'in oyuncacı almak için 3 liraya ihtiyacı vardır.
C. Alin'in oyuncacı almak için 15 liraya daha ihtiyacı vardır.



9 Emre yukarıdaki topları iki gruba ayırdı. Buna göre her grupta kaç top olur?


- A. 2 B. 3 C. 4

10 Mert her gün okulda 3 TL harcamaktadır. Mert 5 günde kaç TL harcar? Yukarıdaki problemin sonucunu hangi işlemle bulamayız?

- A. 5×3
B. $3 + 3 + 3 + 3 + 3$
C. $5 + 5 + 5 + 5 + 5$

11 Aşağıdakilerden hangisi yaz mevsiminin aylarından değildir?

- A. haziran B. mayıs C. temmuz



12 2 numaralı saat 1 numaralı saatten kaç dakika ileridedir?

- A. 15 B. 30 C. 45

13 Aşağıdaki standart olmayan ölçü birimlerinden hangisi en uzundur?

- A. kulaç B. karış C. parmak

14 Yandaki kapının uzunluğu 1 metre 60 santimetredir. Buna göre aşağıdaki çocuklardan hangisi bu kapıdan geçerken eğilmek zorundadır?



- A. Yasin: 1 metre 55 santimetre
B. Aylin: 1 metre 59 santimetre
C. Selçuk: 1 metre 65 santimetre

15 Annem benden 27 kilogram daha fazladır. Annem 53 kilogram olduğuna göre ben kaç kilogramımdır?

- A. 27 B. 26 C. 80

TÜRKÇE -CEVAP ANAHTARI-

1-2-3. soruları aşağıdaki metne göre yanıtlayınız.

"Yemyeşil çimenlerin, rengârenk çiçeklerin kaynaştığı bir ülke varmış. Kuşlar ötüşür, kelebekler uçuşurmuş etrafta. Evleri köşk, köşkleri saray gibiymiş. Irmakları şeker şerbet akarmış, bir uçtan diğer uca. Büyük, meyveli ağaçlar mavi gökle buluşur; güneşle kucaklaşmış. Meyvelerin ise tadına doyum olmazmış..."

1 Parçada anlatılan ülke için hangisi söylenemez?

- A. Yeşilliktir.
- B. Rengârenk çiçeklidir.
- C. Çöl gibidir.

2 Aşağıdakilerden hangisi parçada adı geçen hayvanlardan biri değildir?

- A. Ötüşen kuşlar
- B. Koşuşan atlar
- C. Uçuşan kelebekler

3 Aşağıdakilerden hangisi parçada söz edilen ağaçların özelliklerden değildir?

- A. Büyüktürler.
- B. Meyvelidirler.
- C. Küçüktürler.

4 "Ah, benim akılsız kafam!" cümlesinde altı çizili sözcüğün yerine hangisi yazılırsa cümlenin anlamı bozulmaz?

- A. huyum
- B. başım
- C. arkadaşım

panter kedi zebra leylek

5 Yukarıdaki sözcükleri alfabetik sıra ile yazmak istersek sıralama aşağıdakilerden hangisi olur?

- A. kedi - leylek - zebra - panter
- B. kedi - leylek - panter - zebra
- C. kedi - zebra - leylek - panter

6 Aşağıdaki tümcelerin hangisinde "diz" sözcüğü farklı anlamda kullanılmıştır?

- A. Boncukları ipe diz.
- B. Müdür, öğrencileri sıraya diz dedi.
- C. Düşünce diz kapağını yere çarptı.

7 Aşağıdakilerden hangisi cümle değildir?

- A. Çok çalışıp öğretmenin gözüne gir
- B. Kardeşimle birlikte parkta oyun
- C. Annesinin söylediklerine kulak asmadı

8 Aşağıdakilerden hangisinde yazım yanlışı yapılmıştır?

- A. Okulda Ali ile Berat kavga etti.
B. Ödevini yapmadığı için korkuyordu.
C. Bizi gezmeye götürmeyecekmiydin?

9 Aşağıdaki cümlelerin hangisinde sebep - sonuç ilişkisi vardır?

- A. Borcunu ödemekte çok zorlanıyordu.
B. Borçlarını taksitle ödeyip bitirdi.
C. Borcunu ödeyemedi bu yüzden borç istedi.

1. pikniğe
2. amcamlarla
3. yarın
4. gideceğiz
5. birlikte

10 Numaralandırılmış sözcükleri kullanarak anlamlı ve kurallı bir cümle oluşturmak istersek sıralama hangisi gibi olur?

- A. 3 - 2 - 5 - 4 - 1
B. 3 - 2 - 5 - 1 - 4
C. 3 - 4 - 5 - 2 - 1

11 "Öğretmenimin anlattıklarını sessizce dinledim." tümcesinde kaç hece vardır?

- A. 4 B. 16 C. 17

12 "Kediler olmasaydı, fareler dünyayı kaplardı." Cümlesinde kaç tane çoğul isim vardır?

- A. 1 B. 2 C. 3

13 Hangi sözcük çifti zıt anlamlıdır?

- A. kötü - fena.
B. ağır - hafif
C. nine - büyükanne

14 "Yemekte yedin?" cümlesinde noktalı yere hangisi yazılmalıdır?

- A. kebab
B. ne
C. kuru fasulye

15 Hangi cümlenin sonuna nokta konmalıdır?

- A. Bu soruyu soracağını biliyordum
B. Enes hangi evde oturuyor
C. Elifler geldi mi