


# VERİ TOPLAMA VE DEĞERLENDİRME

👉 Aşağıdaki tabloları dikkatlice inceleyip soruları yanıtlayınız.

SINIFIMIZDA SEVİLEN RENKLER	
 mavi	8
 pembe	5
 yeşil	2
 kırmızı	4

1 En çok sevilen renk hangisidir?  
.....

2 En az sevilen renk hangisidir?  
.....

3 Mavi rengi seven kaç kişi vardır?  
.....

4 Yeşil rengi seven kaç kişi vardır?  
.....





5 Pembe rengi seven kaç kişi vardır?  
.....

6 Sınıfta toplam kaç kişi vardır?  
.....

7 Pembe rengi sevenler ile yeşil rengi sevenlerin toplamı kaçtır?  
.....

## JOKER SORU!

En çok sevilen renk ile en az sevilen rengin farkı kaçtır?  
.....

HAYVANAT BAHÇESİNDEKİ HAYVANLAR	
	4
	9
	2
	8

1 En fazla olan hayvan hangisidir?  
.....

2 En az olan hayvan hangisidir?  
.....

3 Kaç tane fil vardır?  
.....

4 Kaç tane aslan vardır?  
.....

5 Kaç tane maymun vardır?  
.....

6 Toplam kaç hayvan vardır?  
.....

7 Fil, maymun ve zürafaların toplamı kaçtır?  
.....

## JOKER SORU!

En çok olan hayvan ile en az olan hayvanın farkı kaçtır?  
.....