





# VERİ TOPLAMA VE DEĞERLENDİRME

Aşağıdaki tabloyu dikkatlice inceleyip soruları yanıtlayınız.

Tablo: Kümesteki hayvanların sayısı

HAYVANLAR	SAYILARI
Tavuklar	
Civcivler	
Ördekler	
Tavşanlar	

Tavşanların Sayısı

Ördeklerin Sayısı

Civcivlerin Sayısı

Tavukların Sayısı

1 Tavuklarla civcivlerin toplamı kaçtır?

2 Ördeklerle tavşanların toplamı kaçtır?

3 Civcivlerden 4 tanesi kaçarsa kümeste kaç civciv kalır?

4 Tavşanlarla tavukların farkı kaçtır?