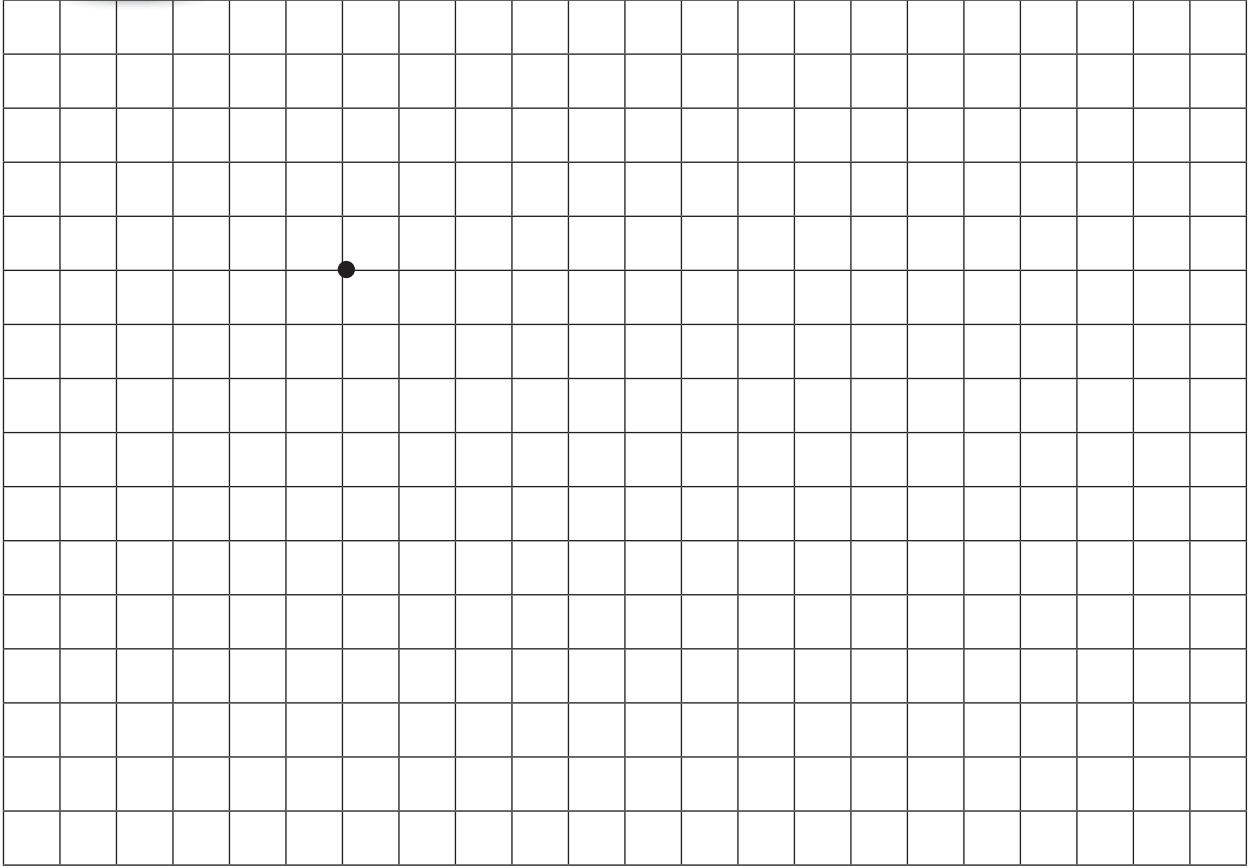
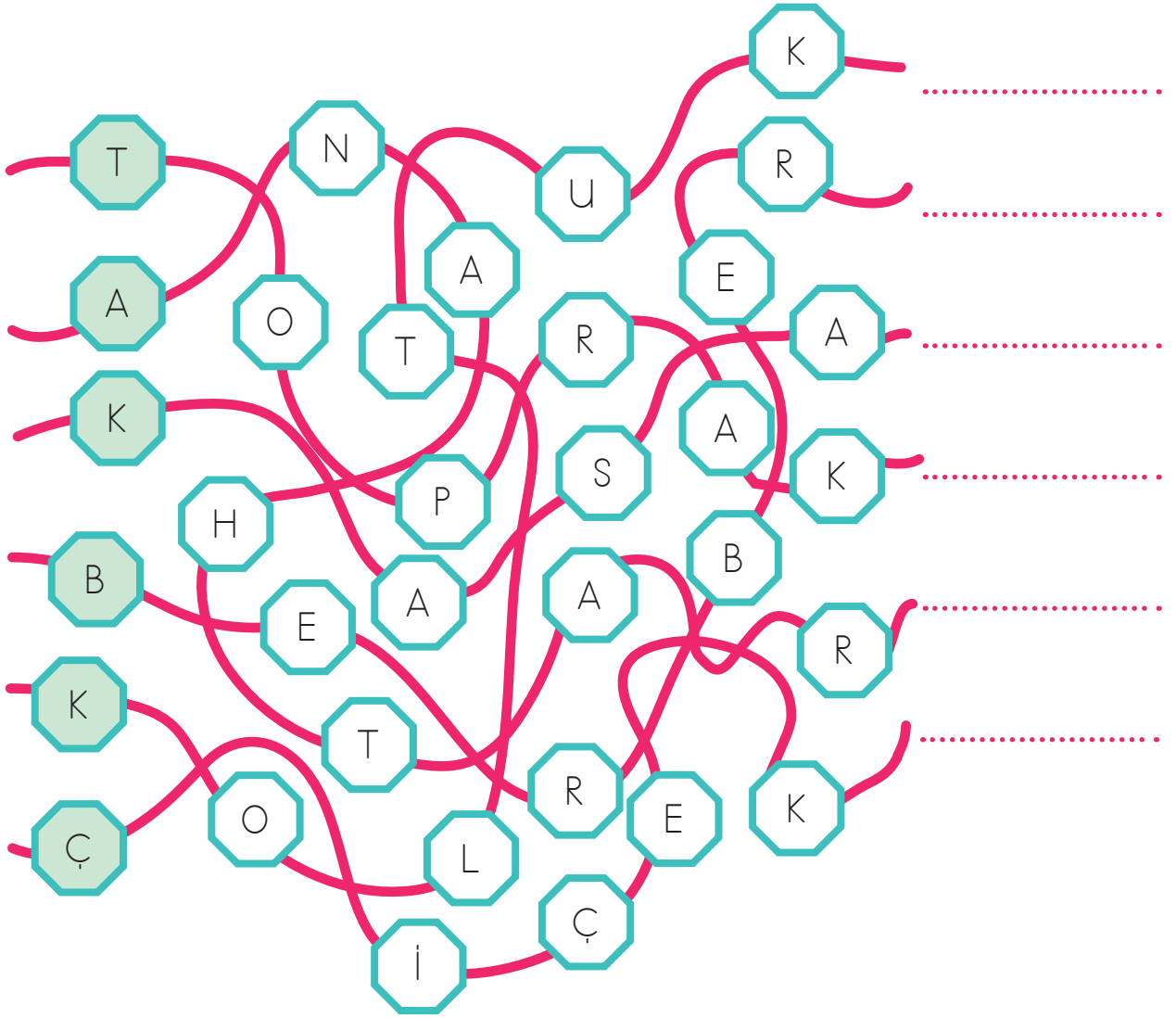
 Başlangıç noktasından itibaren kodlara göre belirtilen yönlerde çizim yapınız.



1	1 →	7	1 →	13	1 →	19	2 →	25	1 ←	31	5 ←	37	2 ←	43	1 →
2	1 ↑	8	1 ↑	14	1 ↓	20	1 ↓	26	2 ↑	32	1 ↑	38	2 ↑	44	3 ↑
3	4 →	9	1 →	15	1 →	21	3 ←	27	1 ←	33	2 →	39	2 ←	45	2 ←
4	1 ↑	10	1 ↑	16	5 ↓	22	1 ↑	28	3 ↓	34	1 ↑	40	1 ↓	46	1 ↑
5	1 ←	11	2 →	17	1 →	23	1 ←	29	1 →	35	1 →	41	1 ←		
6	5 ↓	12	1 ↓	18	1 ↓	24	1 ↑	30	1 ↓	36	1 ↑	42	2 ↑		



Labirentte gizlenmiş olan sözcükleri bulmaya ne dersiniz? Renkli kutulardan başlayarak harfleri takip edelim. Bulduğumuz sözcüğü noktalı alanlara yazalım.



- 1
- 2
- 3
- 4
- 5
- 6





DİL BALIĞI

Buldukları ortamda huzur kalmadığı için balıklar hiç de memnun değildi. Hiçbiri diğeriyle bir araya gelemiyordu. Her biri ayrı ayrı, başıboş dolaşıyordu. Bir araya gelmek isteyenlerin önü kesiliyor, güçlü olan kuyruğuyla **zayıf** olanı dövüp ona bağıyor ya da onu yutmaya çalışıyordu.



Sonunda bir gün bu duruma artık dayanamadılar. "Bir kralımız olsa ne iyi olurdu, hak ve hukukumuzu sağlardı." diyerek toplandılar. Aralarında, denizin kabarması halinde en **iyi** ve en **hızlı** yüzüp **zorda** kalanlara yardım edecek olanı seçmeye karar verdiler. Bu seçimi en doğru şekilde yapabilmek için de bir yarış düzenlediler. Bütün balıklar sahilde sıralandı. Turna balığı kuyruğuyla bir işaret verdi, hepsi aynı anda yüzmeye başladı. Turna balığı ok gibi **ileri** atıldı; onunla birlikte zargana, uskumru, levrek, sazan balığı ve diğer bütün balıklar. Dil balığı da hedefe ulaşma umudu içinde onlarla birlikte yüzdü.



Derken bir ses duyuldu: "Levrek önde! Levrek **önde!**" diye. Bu işe canı sıkılan kötü kalpli kara dil balığı, "Kimmiş öndeki?" diye bağırdı. "Levrek! Levrek!" şeklinde geldi cevap. "Çıplak levrek mi?" diye seslendi kıskanç balık, "Çıplak levrek mi?"



Herkes, dil balığının bu saygısızlığına çok kızdı. Çenesini tutması için dil balığına bir **ceza** verildi. O günden beri dil balığının ağzı hep **çarpıktır**.



 Aşağıdaki soruları okuduğunuz metne göre yanıtlayınız.

1 Aşağıdakilerden hangisi güçlü balıkların zayıf balıklara yaptıkları arasında değildir?

- A. Onlara bağıyorlar.
- B. Onları kuyrukları ile dövüyorlar.
- C. Onlara sevgiyle yaklaşıyorlar.

2 Metinde aşağıdaki balıklardan hangisinden bahsedilmemektedir?

- A. Dil balığı
- B. Levrek
- C. Hamsi

3 Kötü kalpli olan balık aşağıdakilerden hangisidir?

- A. Uskumru
- B. Dil balığı
- C. Zargana

4 Girdiğiniz bir yarışmada birinci olanı tebrik eder misiniz? Nedenini kısaca yazalım.

.....
.....
.....

5 Aşağıdaki cümleleri, başlarına numara vererek oluş sırasına göre sıralayalım.

- () Turna balığı kuyruğuyla bir işaret verdi.
- () Çenesini tutması için dil balığına bir ceza verildi.
- () Bütün balıklar sahilde sıralandı.
- () "Bir kralımız olsa ne iyi olurdu, hak ve hukukumuzu sağlardı." diyerek toplandılar.
- () Buldukları ortamda huzur kalmadığı için balıklar hiç de memnun değildi.

6 Metinde kırmızı ile yazılmış kelimelerin zıt anlamlılarını bulmacadan bulalım.

Y	A	V	A	Ş	L	A	Y	A	Y	A
E	G	E	R	İ	D	Ö	N	Ü	Ş	E
N	E	R	Ö	Ş	S	T	A	M	A	M
İ	L	K	E	M	D	E	L	İ	K	İ
L	E	N	F	A	R	K	A	K	O	L
İ	L	L	E	N	A	Ö	D	Ü	L	A
K	İ	L	İ	M	J	T	A	D	A	D
İ	M	D	Ü	Z	G	Ü	N	İ	Y	İ

peşken yayınları





Okunuşları verilen sayılara ait renklerle, üzerinde aynı sayılar olan dondurmaları boyayınız.


Not: 2 dondurma boyasız kalacaktır.

SAYI	RENK
Yedi yüz on sekiz	Red
Beş yüz on bir	Blue
Dokuz yüz seksen dokuz	Grey
Altı yüz yetmiş yedi	Green
İki yüz altmış altı	Purple

SAYI	RENK
Dört yüz seksen sekiz	Pink
Sekiz yüz bir	Yellow
Üç yüz elli dokuz	Orange
İki yüz altı	Black
Yüz elli bir	Dark Blue



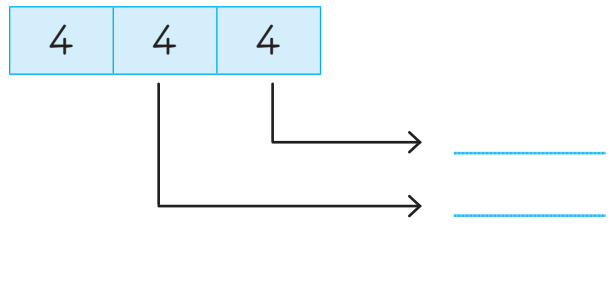
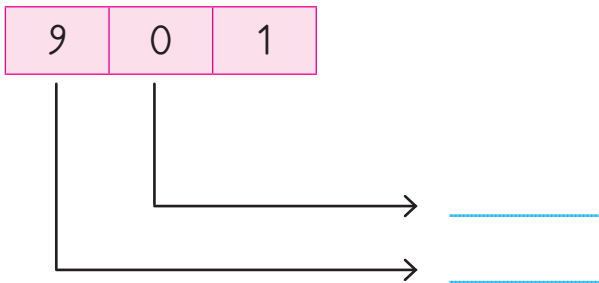
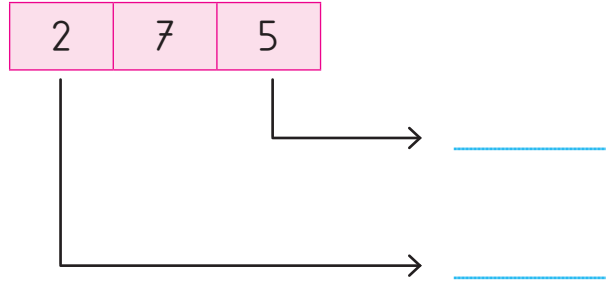
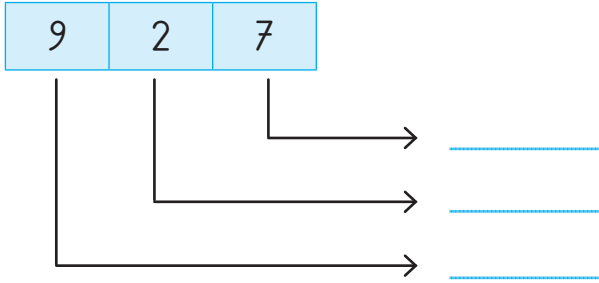
Boyamadığınız 2 dondurmanın üzerindeki sayıları aşağıdaki dondurmaların üzerine yazınız. Bu sayıların okunuşlarını karşılarına yazınız.



 Aşağıda özelliği verilen sayıları bulup bu sayının yazılı olduğu kutuyu örnekteki gibi boyayalım.

3 basamaklı en küçük sayı	101	99	999	100	123
3 basamaklı en büyük çift sayı	909	988	998	999	987
3 basamaklı en küçük tek sayı	101	100	123	999	105
Birler basamağı 7, yüzler basamağı 9, onlar basamağı 2 olan sayı	279	297	792	972	927
3 onluk, 8 yüzlük ve 4 birlikten oluşan sayı	384	834	843	483	348
3 basamaklı en büyük sayı	999	987	789	900	199
7 yüzlük ve 9 birlikten oluşan 3 basamaklı sayı	799	739	709	907	79

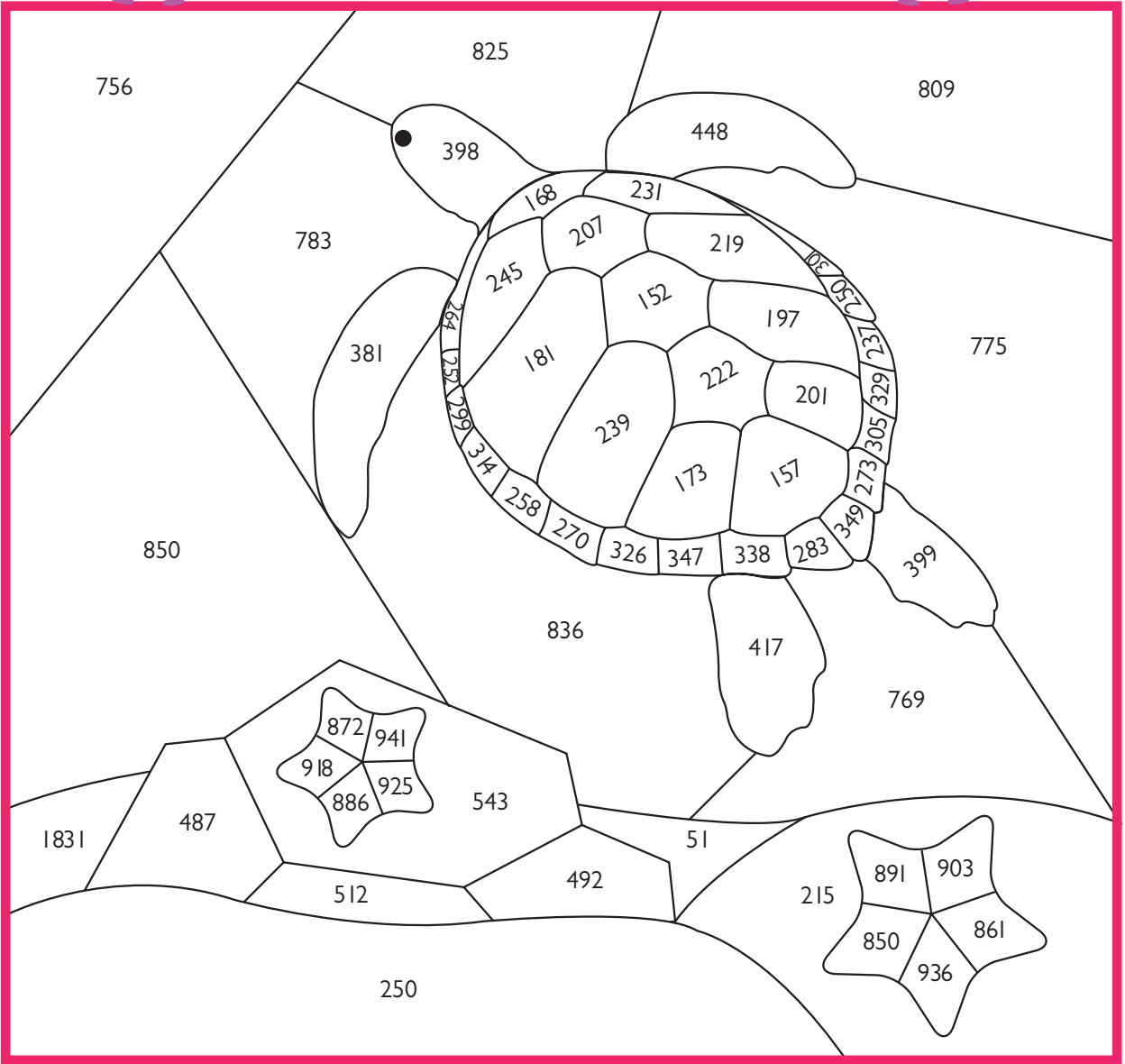
 Aşağıdaki sayılarda okla gösterilen rakamların basamak değerlerini yazınız.



▲ Aşağıdaki resmin üzerinde bulunan sayıları en yakın oldukları yüzüklere yuvarlayalım.
Bulduğumuz sayılara göre belirtilen renklerle resmi boyayalım.



- 800 → ● 400 → ●
500 → ● 900 → ●
200 → ● 300 → ●




▲ Aşağıdaki dondurmaların üzerinde yazan özellikleri okuyalım. Arkadaşınızın sahip olmasını istediğiniz özellikleri mavaviye, olmasını istemediğiniz davranışları kırmızıya boyayalım.



▲ Aşağıdaki ifadeleri okuyalım. Doğru olan ifadelerin başına 😊, yanlış olanların başına ☹️ ifadesi yapalım.

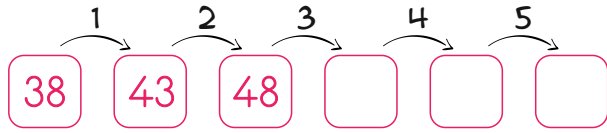
●	Arkadaş seçerken dikkatli olmalıyız.
●	Arkadaşlarımızın hoşuna gitmeyen lakaplar takmalıyız.
●	Uyuumsuz davranarak sorun çıkarmalıyız.
●	Arkadaşlarımızın zor zamanlarında onlara destek olmalıyız.
●	Oyun oynadığımızda bencil ve oyunbozan olmalıyız.
●	Arkadaşlarımıza karşı hoşgörülü ve dürüst olmalıyız.



MINİ TEST -1-

1 Birler basamağında 7, onlar basamağında 5 ve yüzler basamağında 8 olan sayı aşağıdakilerden hangisidir?

- A. 758
B. 875
C. 857



2 Verilen genişleyen örüntünün son adımı nasıl olmalıdır?

- A. 58 B. 63 C. 68

3 Aziz 14, Şule 15 yaşındadır. Aziz, Şule ve Kerim'in yaşları toplamı 43'dir. Şule ve Kerim'in yaşları farkı kaçtır?

- A. 1 B. 3 C. 5

4 Yukarıdaki balonların içerisindeki sayılardan kaç tanesi çift sayıdır?

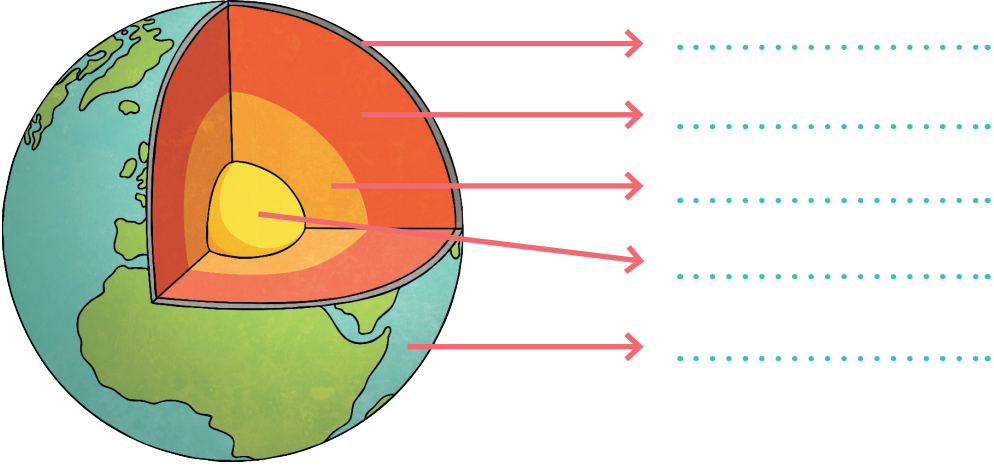
- A. 2 B. 3 C. 4

5 Bir manav 20 kasa portakal aldı. Her kasada 16 portakal vardı. Portakalların 140'unu sattı. Geriye kaç portakal kaldı?

- A. 170 B. 180 C. 190



▲ Aşağıdaki Dünya modeli üzerinde gösterilen yerlerin hangi katmana ait olduğunu yazalım.




▲ Aşağıda verilen varlıkları buldukları katmanlarla eşleştirelim.

- Ormanlar ●
- Rüzgâr ●
- Mağaralar ●
- Buzullar ●
- Göller ●
- Yanardağlar ●
- Dağlar ●
- Oksijen ●
- Denizler ●
- Yaylalar ●
- Çöller ●
- Okyanuslar ●
- Nehirler ●

HAVA
KATMANI

KARA
KATMANI

SU
KATMANI



MİNİ TEST -2-

1 "Uykumuza dikkat etmeliyiz." cümlesinde kaç tane ünlü harf bulunmaktadır?

A. 9 B. 10 C. 11

2 Aşağıdaki sözcüklerden hangisi hecelerine doğru bir şekilde ayrılmıştır?

A. yurt - dı - şı - na
B. yur - tdı - şı - na
C. yurt - dı - ş - ı - na

3 Aşağıdaki sözcüklerden hangisine "-ci" eki eklenirse anlamlı bir sözcük oluşur?

A. Duygu B. Pencere C. Görgü

4 Aşağıdaki sözcüklerden hangisi sözcüğün anlamını değiştiren birden fazla ek almıştır?

A. Kaportacılık
B. Sazlık
C. Patatesçi

5 "Akşam camcı eve gelecek." cümlesinde ek alarak yeni bir anlam kazanan sözcük hangisidir?

A. Akşam B. camcı C. eve

6 Aşağıdaki sözcüklerden hangisi basit bir sözcük değildir?

A. Sucu B. Perde C. Tahta

pekişen yayınları

Kolluk

Köpek

Ağaç

Perdecı

7 Yukarıdaki sözcüklerden kaç tanesi türemiştir?

A. 3 B. 2 C. 1

Çanakkale'de deniz başka kokar.

8 Yukarıdaki cümlede hangi kelime birleşik bir sözcüktür?

A. Çanakkale
B. deniz
C. başka





Aşağıda verilen harflerle başlayan kişi, hayvan, bitki, eşya ve yer adlarını boşluklara yazalım.

HARF	KİŞİ	HAYVAN	BİTKİ	EŞYA	YER
A					
K					
T					
Ç					
P					
S					
E					
İ					
Z					

EN UZUN SÖZCÜK

Öğretmen Gökçe'yi tahtaya kaldırdı:

-Bana uzun bir sözcük söyle, dedi.


-Lastik, diye yanıtladı Gökçe.

Öğretmen şaşırdı:

Altı harfli... Nesi uzunmuş bunun?


Gökçe açıklamak zorunda kaldı:

-Uzun sayılmaz ama çekince uzar öğretmenim!



 Count and colors.

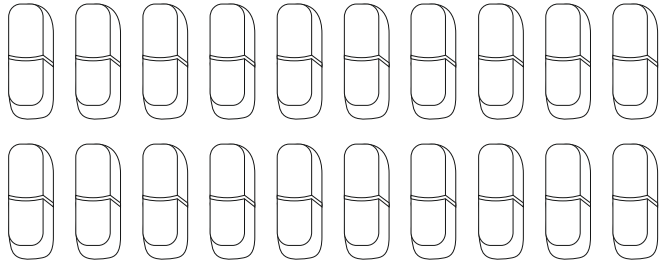
sixteen red pencils




fifteen blue books




seventeen yellow erasers



eleven green rulers



twelve pink scissors





Write the numbers.

