

2.
HAFTA



Aşağıdaki iki resim arasındaki 10 farkı bulalım.





ÇOCUKLUK

Affan Dede'ye para saydım,
Sattı bana çocukluğumu.
Artık ne yaşım var ne adım,
Bilmiyorum kim olduğumu.
Hiçbir şey sorulmasın benden,
Haberim yok olan bitenden.
Bu bahar havası, bu bahçe;
Havuzda su şırl şırlıdır.
Uçurtmam bulutlardan yüce,
Zipzıplarım pırl pırlıdır.
Ne güzel dönüyor çemberim,
Hiç bitmese horoz şekerim!

Cahit Sıtkı TARANCI



1. Aşağıdaki soruları okuduğunuz şiire göre yanıtlayınız.

1. Şair Affan Dede'ye ne vermiştir?

- A. Para vermiştir.
- B. Horoz şekeri vermiştir.
- C. Su vermiştir.

2. Şiirde aşağıdakilerden hangisinden bahsedilmemiştir?

- A. Para vermiştir.
- B. Horoz şekeri vermiştir.
- C. Su vermiştir.

3. Affan Dede şaire ne satmıştır?

- A. Zıpızlarını
- B. Çocukluğunu
- C. Dondurma

4. Siz de çocukluğunuzun hiç bitmesini ister miydiniz? Nedenlerini kısaca yazınız.

.....

.....

.....

5. Aşağıdaki kelimeleri numara vere-
rek alfabetik sıraya göre sıralayalım.

- () Odun () Erik () Kapak
- () Orman () Ezgi () Keten
- () Oltu () Ekin () Küre
- () Oda () Elbise () Kirpik

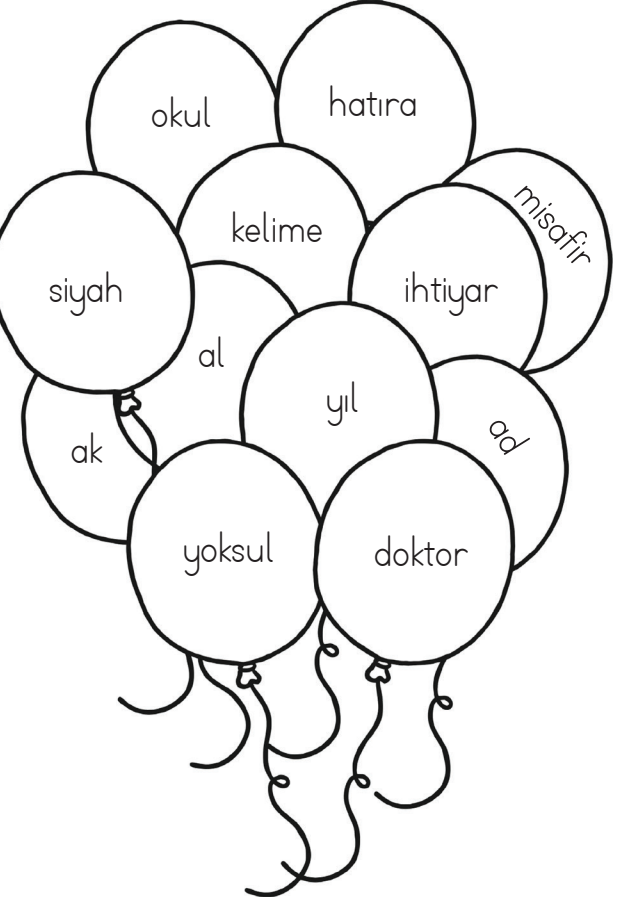
6. Aşağıdaki kelimeler arasından, eş
sesli kelimeleri çiçek konulmamış bulup
kırmızıya boyayalım.

- Yaz
- Muallim
- Bağ
- Kutu
- Gül
- Dolu
- Al
- Kemik
- Dokuz
- Ocak
- Yağ
- Kaz

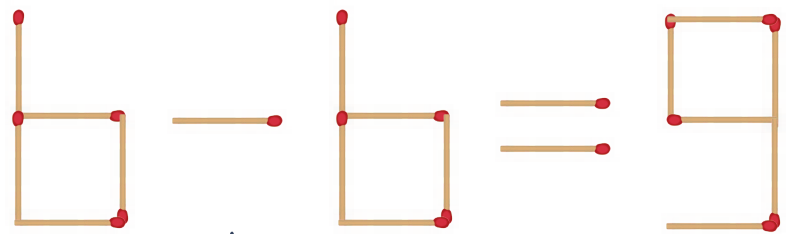
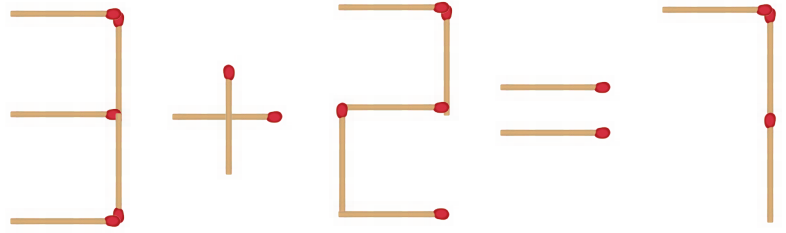




Balonların üzerindeki eş anlamlı sözcükleri aynı renge boyayalım.

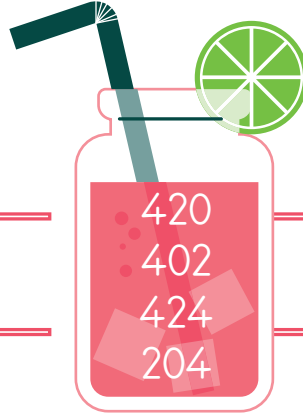
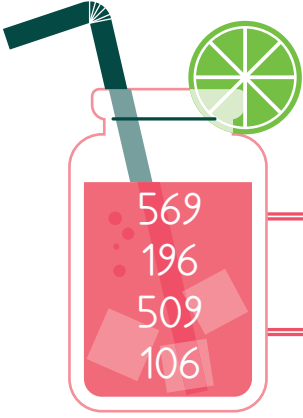


1 adet kibrit çöpünün yerini değiştirerek eşitliği sağlayınız.

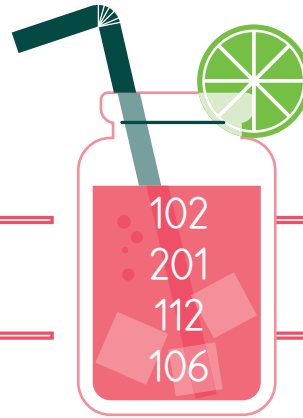





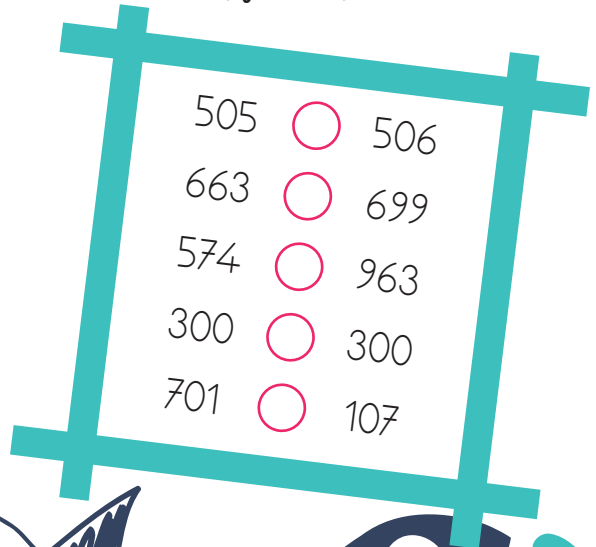

Meyve sularının üzerine yazılmış olan sayıları, sembol kullanarak büyükten küçüğe doğru sıralayalım.



Meyve sularının üzerine yazılmış olan sayıları, sembol kullanarak küçükten büyüğe doğru sıralayalım.



Aşağıda verilen sayı çiftlerinin arasına ">", "<" ve "=" sembollerinden uygun olanı yazalım.



Åaıdaki ocuklar ileriye ve geriye doęru ritmik sayma yapıyorlar. ocukların saymalarındaki noktalı alanlara uygun sayıları yazalım. Son yazdığınız sayıya gre ocukların isimlerini bulup yazalım.



İleriye doęru
altıar

24
----	-------	-------	-------	-------	-------



Geriye doęru
yedıer

91
----	-------	-------	-------	-------	-------



İleriye doęru
dokuzar

18
----	-------	-------	-------	-------	-------



Geriye doęru
sekizer

88
----	-------	-------	-------	-------	-------



İleriye doęru
yedıer

14
----	-------	-------	-------	-------	-------



Geriye doęru
altıar

72
----	-------	-------	-------	-------	-------

56	→	Aykut
42	→	Aylin
48	→	Efe

54	→	Meral
63	→	Metin
49	→	Kemal



 Aşağıda verilen Romen rakamlarına karşılık gelen sayıları yazınız.

XIX	XV	III	XX	V	VII	XI	I	IX	VI
.....
VIII	II	XIII	XVIII	IV	X	XIV	XVII	XII	XVI
.....

 Aşağıdaki örüntülerin kuralını bulup eksik adımlarını tamamayınız.

7	10	9	12	11
105	205	305	405
29	36	43	50
11	20	17	26	23
20	30	25	35





Aşağıdaki metinde boşluklara duruma uygun olan duyu organlarını yazarak dolduralım.

GÖZ

KULAK

DERİ

DİL

BURUN

Babam beni çağırdı.(.....) Koşarak eve girdim. Televizyonda milli maç vardı.(.....) Mutfaktan mis gibi kokular geliyordu.(.....) Babamın yanına uzanıp başımı kolunun üstüne koydum.(.....) Annem elinde tabaklarla içeri girdi. "Herkes masaya gelsin." dedi.(.....) Annemin yaptığı tarçınlı kekin tadı harikaydı.(.....) Limonatanın ekşi tadı yüzünden yüzüm buruştu. (.....) Annem yanağımı okşadı.(.....) Annemle tabakları toplayıp mutfağa götürdük. Ben mutfaktayken babam "Gol" diye bağırdı. (.....) Koşarak yanına gittim. Babam sevinçten zıplıyordu. Hemen beni kucığına alarak sıkıca sarıldı.(.....) Telefon çaldı.(.....) Telefonu ben açtım. Sesini hemen tanıdım. Dedem arıyordu.(.....) Benim bahçeye inmemi istiyordu. Ayakkabılarımı giyip hemen bahçeye indim. Bahçedeki çiçekleri suluyordu. Her taraf çiçek kokuyordu.(.....) Hortumu elinden aldım. Suyun az akması için hortumu sıkmaya çalıştım. Biraz fazla sıkışım. Elim acıdı.(.....) Dedem başımı okşayarak nasıl sulamam gerektiğini söyledi.(.....)



Aşağıdaki cümlelerin sonunda olan iki eylemden göz sağlığı için yapılması gerekeni bularak örnekteki gibi işaretleyelim.

- Gözlerimizi temiz (tutmaliyiz) / tutmamalıyız.
- Başkalarının havlularını, gözlüklerini kullanmamalıyız / kullanmalıyız.
- Televizyon ve bilgisayara uzun süre bakmalıyız / bakmamalıyız.
- Gözlerimizi aşırı ışıktan korumalıyız / korumamalıyız.
- Güneşe doğrudan bakmalıyız / bakmamalıyız..
- Işığı az olan yerde okuma yapmalıyız / yapmamalıyız.
- A vitamini içeren besinler yemeliyiz / yememeliyiz.





MINİ TEST -3-

1 İleri doğru 7'şer sayarken 73'den önce söylediğimiz sayı hangisidir?

A. 63 B. 65 C. 66

2 Bayramda 3 gün boyunca açık olan arkeoloji müzesine için 1. gün 308, 2. gün 204 ve 3. gün 265 kişi giriş yapıyor. Buna göre, müzeyi ziyaret eden kaç kişi olmuştur?

A. 777 B. 786 C. 808



5 Yaren'in alacağı tablet ₺ 580'dir. Yaren'in ise ₺ 328'si var. Yaren yaklaşık olarak kaç ₺ daha biriktirmelidir?

A. 252 B. 277 C. 282

pekişen yayınları

70B

3 Yukarıdaki sayı çift sayı olduğuna göre B yerine hangisi gelemez?



A. 3 B. 2 C. 0

4 "Beş yüz beş" ve "Üç yüz doksan dokuz" sayılarının toplamı kaçtır?

A. 864 B. 904 C. 950

6 Bir çıkarma işleminde çıkan, farktan 41 fazladır. Fark 8 olduğuna göre eksilen kaçtır?

A. 52 B. 55 C. 57



Aşağıdaki görsele göre soruları yanıtlayınız.



1 Kütüphane ile ilgili aşağıdakilerden hangisi yanlıştır?

- a. Maslakçeşme Caddesi'ndedir.
- b. Evin karşısındadır.
- c. Sinemanın karşısındadır.

2 Aşağıdakilerden hangisi Hakan Caddesi'nde değildir?

- a. Ev
- b. Market
- c. Eczane

3 Aşağıdaki bilgilerden hangisi doğrudur?

- a. Eczane ile market yan yanadır.
- b. Okul, sinemanın karşısındadır.
- c. Sağlık Ocağı ile kütüphane yan yanadır.

4 Aşağıdaki çiftlerden hangisinin arasındaki mesafe en uzaktır?

- a. Ev - Sinema
- b. Fırın - Market
- c. Eczane - Kütüphane





MINİ TEST -4-

1 Aşağıdaki cümlelerin hangisinde birleşik yapılı sözcük vardır?

- A. Sonbaharda yapraklar sararır.
- B. Dedem bahçeye çıkmak istemedi.
- C. Market sabah geç bir saatte açılacaktı.

2 Aşağıdaki sözcüklerden hangisinin eş anlamlısı yoktur?

- A. muallim
- B. doktor
- C. çanta

3 Aşağıdaki cümlelerin hangisinde "kır" sözcüğü gerçek anlamında kullanılmıştır?

- A. Yaptığın davranış beni çok kıldı.
- B. Toplanan odunları kim kıracak?
- C. Kalbi kırılanlar olduğunu biliyorum.

- ⇒ Kuş
- ⇒ Mide
- ⇒ Atatürk
- ⇒ Adana
- ⇒ Sandık
- ⇒ Ördek

4 Yukarıdaki sözcüklerden kaç cins addır?

- A. 2
- B. 3
- C. 4

5 Aşağıdaki cümlelerin hangisinde özel ad doğru yazılmıştır?

- A. Aylanın elbisesi çok güzelmiş.
- B. İstanbul'da geceler ılık ılıktır.
- C. Saimde bizimle gelecek mi?

masa → özel ad

Çerçeve → cins ad

Miray → özel ad

6 Yukarıdaki eşleştirmelerden kaç tanesi doğrudur?

- A. 1
- B. 2
- C. 3

7 Aşağıdakilerden hangisi adın hâl eklerinden birini almamıştır?


- A. Çocuklar
- B. arabadan
- C. çantada

pekişen yayınları





Write the names.



My name is Tessa.
This is my family.

1. Angela is mymother.....
2. George is my
3. Janet is my
4. Tom is my
5. Frank is my
6. Emma is my
7. David is my
8. Barbara is my
9. John is my
10. Flora is my





 Match



mother



father




grandmother



grandfather



brother



sister

 Write Family Members

mother - father - grandma - granpa- brother
sister - aunt- uncle

HE



father

.....
.....
.....
.....

SHE



.....
.....
.....
.....

